

**Вариант № 202**

**1. Задание 1.1 № 505**


На карте мира, изображён маршрут экспедиции одного из путешественников, портреты которых представлены ниже. Рассмотрите карту и портреты путешественников и выполните задания. Маршрут экспедиции кого из путешественников изображён на карте?



Васко Да Гама



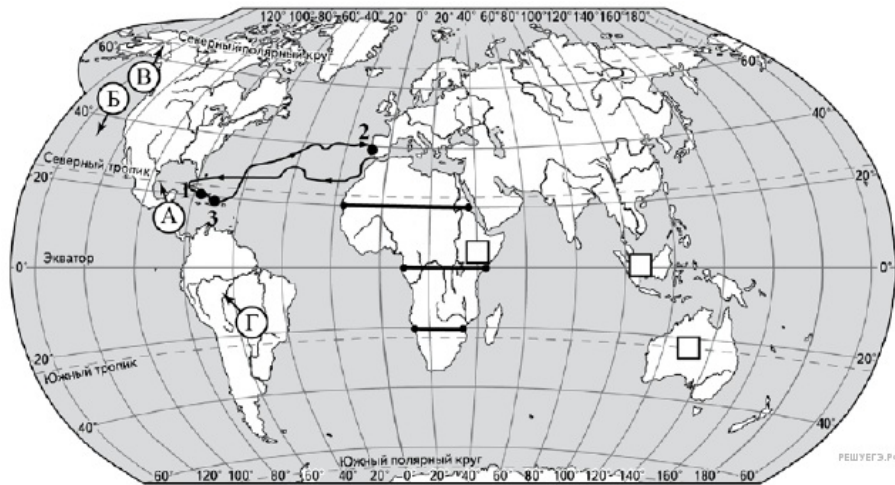
Христофор Колумб



Давид Ливингстон

Подпишите на карте название материка, по которому проходил маршрут экспедиции.

Задания 1 – 3 выполняются с использованием карты мира.



**Пояснение.**

1. Указание путешественника: Христофор Колумб.
2. Подпись названия материка на карте: Северная Америка.

**Критерии проверки:**

Критерии оценивания выполнения задания	Баллы

Путешественник не указан / указан неправильно независимо от подписи названия материка на карте. ИЛИ Ответ неправильный	0
Правильно указан путешественник; название материка на карте не подписано / подписано неправильно	1
Правильно указан путешественник, подписан материк	2
<b>Максимальный балл</b>	<b>2</b>

**2. Задание 1.2 № 506**

На карте буквами обозначены объекты, определяющие географическое положение материка, к берегам которого направлялась экспедиция. Запишите в таблицу названия этих объектов.

А	Б	В	Г

**Пояснение.**

Ответ: А — Северный тропик; Б — Тихий океан; В — Северный полярный круг; Г — Южная Америка.

Ответ: Северный тропик&Тихий океан&Северный полярный круг&Южная Америка

**3. Задание 1.3 № 507**

По линии маршрута экспедиции отмечены точки, расположенные на территории крупных географических объектов. Определите и запишите в ответе географические координаты точки 1.

**Пояснение.**

Ответ: 20° с. ш. 75° з. д. (допускается погрешность в 1°).

**Критерии проверки:**

Критерии оценивания выполнения задания	Баллы
Ответ неверный	0
Ответ верный	1
<b>Максимальный балл</b>	<b>1</b>

**4. Задание 1.4 № 508**

Прочитайте текст, составленный по запискам путешественников, исследователей и туристов, посещавших объект, на территории которого расположена точка 1. Запишите в ответе название этого географического объекта.

Этот остров омывается водами Карибского моря и является крупнейшим в составе архипелага Большие Антильские острова. От Северной Америки остров отделяется Флоридским проливом на севере и Юкатанским проливом на западе. Рельеф острова преимущественно равнинный. Горы занимают около четверти его территории. Климат острова — тропический влажный. В его формировании большую роль играют северо-восточные пассаты. Среднегодовая температура составляет около 26 °С. Территорию острова целиком занимает одноимённое

государство.

**Пояснение.**

Ответ: остров Куба.

Ответ: остров Куба

**5. Задание 2.1 № 509**

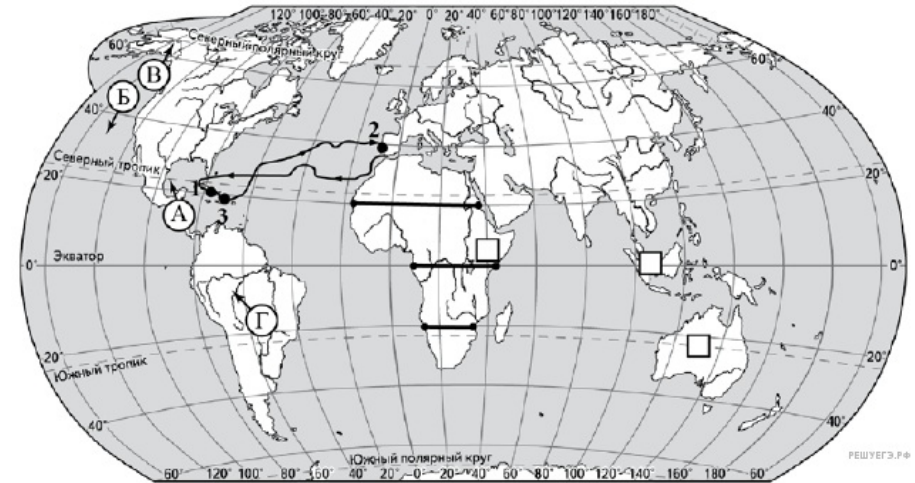
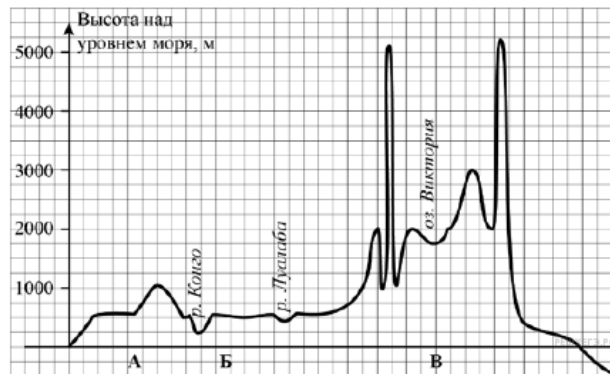
По какому из отрезков, проведённых на карте вдоль трёх параллелей, пересекающих материк Южная Америка, построен профиль рельефа, представленный на рисунке? Укажите в ответе значение параллели.

Определите по карте протяжённость материка Южная Америка в градусах по указанной Вами параллели.

Рассчитайте протяжённость материка Южная Америка по указанной Вами параллели в километрах с помощью, приведённой ниже таблицы. (Для расчёта воспользуйтесь калькулятором.)

Широта	0°	10°	20°	30°	40°	50°	60°	70°	80°	90°
Длина дуги параллели в 1°, км	111,3	109,6	104,6	96,5	85,4	71,7	55,8	38,2	19,4	0

На уроке географии Владимир построил профиль рельефа Южной Америки, представленный на рисунке. Используя рисунок и карту мира, выполните задания.



**Пояснение.**

1. Значение параллели: 0° ш.
2. Протяжённость материка в градусах: 34° (допускается погрешность в 1°).
3. Протяжённость материка в километрах: 3784 км.

**Критерии проверки:**

Критерии оценивания выполнения задания	Баллы
Правильно указано только значение параллели; протяжённость материка в градусах и протяжённость материка в километрах не указаны / указаны неправильно. ИЛИ Ответ неправильный	0
Правильно указаны значение параллели и протяжённость материка в градусах, протяжённость материка в километрах не указана / указана неправильно	1
Правильно указаны значение параллели; протяжённость материка в градусах и протяжённость материка в километрах	2
<b>Максимальный балл</b>	<b>2</b>

**6. Задание 2.2 № 510**

Укажите географическое название крупной формы рельефа, которой соответствует участок профиля, обозначенный на рисунке буквой В.

Определите наибольшую абсолютную высоту территории, через которую проходит профиль на этом участке.

**Пояснение.**

1. Название формы рельефа: Восточно-Африканское плоскогорье.
2. Абсолютная высота территории: более 5000 м.

**Критерии проверки:**

Критерии оценивания выполнения задания	Баллы

Форма рельефа не названа / названа неправильно независимо от определения абсолютной высоты территории. ИЛИ Ответ неправильный	0
Правильно названа форма рельефа; абсолютная высота территории не определена/определена неправильно	1
Форма рельефа не названа / названа неправильно независимо от определения абсолютной высоты территории. ИЛИ Ответ неправильный	2
<b>Максимальный балл</b>	2

**7. Задание 2.3 № 511**

На рисунке представлены значки, которыми обозначаются месторождения полезных ископаемых на географических картах.



Внесите в таблицу значки, обозначающие месторождения полезных ископаемых, которые добывают на территории, обозначенной на профиле буквой В.

Фосфориты	Золото	Алмазы	Оловянные руды

**Пояснение.**

Правильный ответ должен содержать таблицу с внесёнными в неё значками полезных ископаемых:

Фосфориты	Золото	Алмазы	Оловянные руды

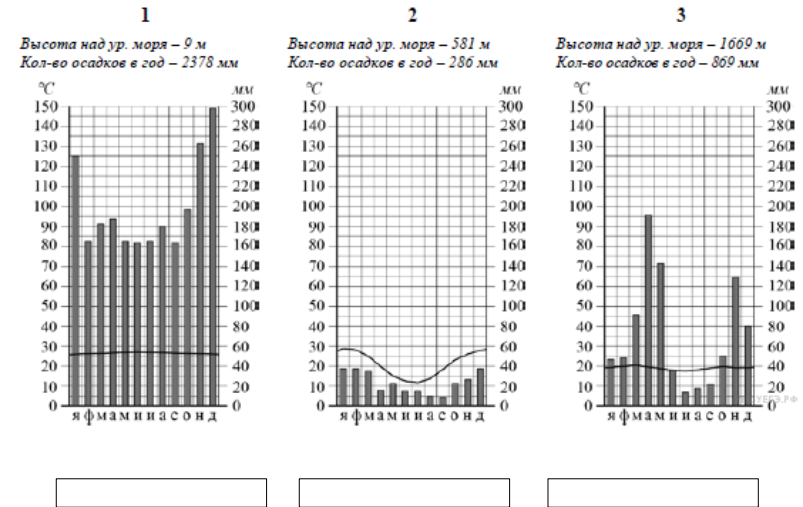
**Критерии проверки:**

<b>Критерии оценивания выполнения задания</b>	<b>Баллы</b>
Правильно заполнены одна-две ячейки таблицы. ИЛИ Все ячейки таблицы заполнены неправильно / не заполнены	0
Правильно заполнены три ячейки таблицы	1
Правильно заполнены четыре ячейки таблицы	2
<b>Максимальный балл</b>	2

**8. Задание 3.1 № 512**

Рассмотрите рисунки с изображением климатограмм, построенных по данным метеонаблюдений в разных частях Земли, и выполните задания.

Определите, какому климатическому поясу соответствует каждая климатограмма. Подпишите название климатического пояса под соответствующей климатограммой.



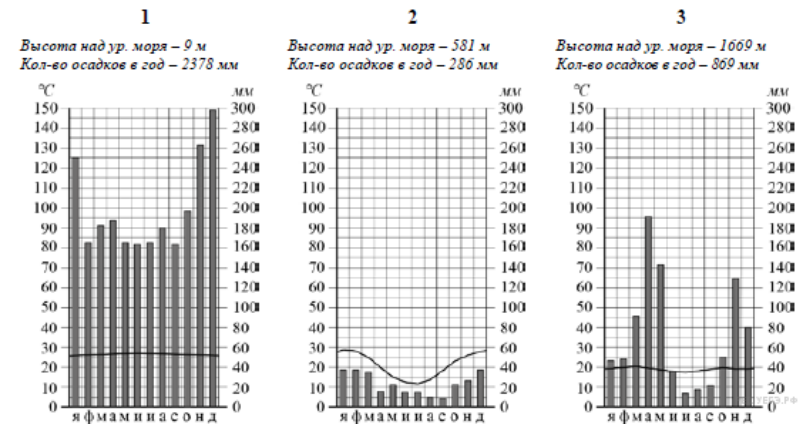
**Пояснение.**

Ответ: 1 — экваториальный ; 2 — тропический ; 3 — субэкваториальный.

Ответ: экваториальный&тропический&субэкваториальный

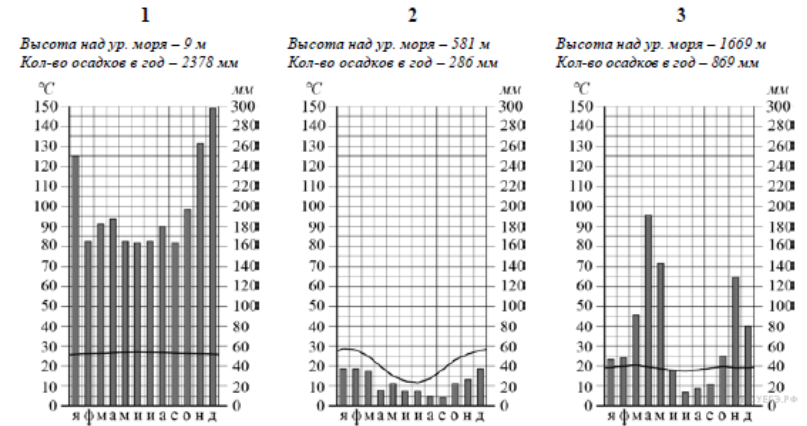
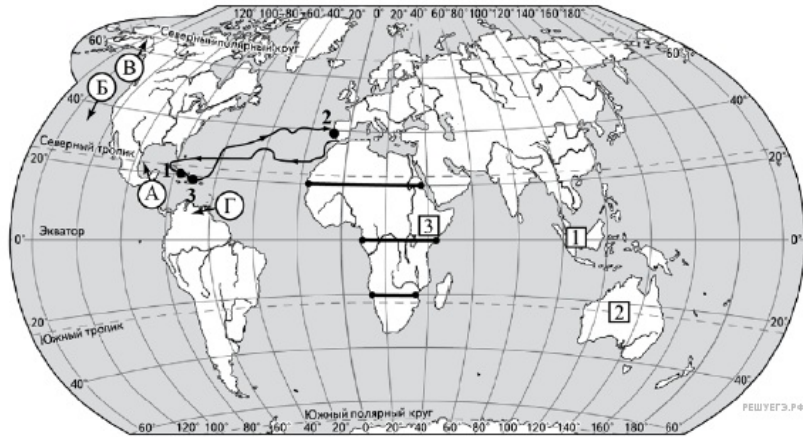
**9. Задание 3.2 № 513**

На карте мира территории, для которых построены изображённые на рисунках климатограммы, обозначены пустыми квадратами. Впишите в каждый квадрат на карте номер соответствующей климатограммы.



**Пояснение.**

Правильный ответ должен содержать запись трёх номеров климатограмм в пустые квадраты на карте.



**Критерии проверки:**

Критерии оценивания выполнения задания	Баллы
Правильно вписан только один номер климатограммы. ИЛИ Ответ неправильный	0
Правильно вписаны три номера климатограмм	1
<b>Максимальный балл</b>	<b>1</b>

**10. Задание 3.3 № 514**

Какой природной зоне мира соответствуют приведённые ниже характеристики? Укажите в ответе название этой природной зоны.

- Наличие влажного и сухого сезонов года.
- Преобладает травянистая растительность.
- Отдельно стоящие деревья часто имеют зонтичную форму кроны.
- Занимает значительные площади в Африке, Австралии и Южной Америке.
- Пасутся большие стада копытных животных.

Выберите климатограмму, соответствующую климатическим особенностям указанной Вами природной зоны. Укажите в ответе её номер.

**Пояснение.**

- Название природной зоны: саванна;
- Номер климатограммы: 3.

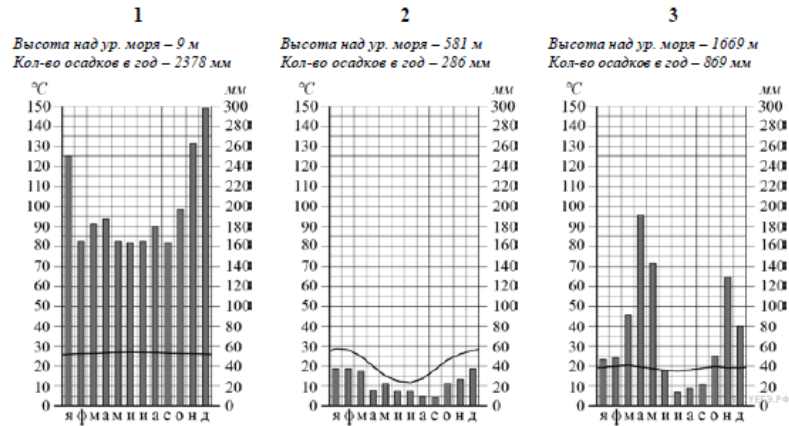
**Критерии проверки:**

Критерии оценивания выполнения задания	Баллы
Название природной зоны не указано независимо от указания номера климатограммы. ИЛИ Ответ неправильный	0
Правильно указано название природной зоны; номер климатограммы не указан / указан неправильно	1
Правильно указаны название природной зоны и номер климатограммы	2
<b>Максимальный балл</b>	<b>2</b>

**11. Задание 3.4 № 515**

По выбранной Вами в задании 3.3. климатограмме определите климатические показатели для указанной природной зоны и заполните таблицу.

Средняя температура воздуха, °C		Годовая амплитуда температур, °C	Среднегодовое количество осадков, мм	Месяц, на который приходится наибольшее количество осадков
в январе	в июле			



Для выполнения задание приводим текст задания 3.3:

Какой природной зоне мира соответствуют приведённые ниже характеристики? Укажите в ответе название этой природной зоны.

- 1) Наличие влажного и сухого сезонов года.
- 2) Преобладает травянистая растительность.
- 3) Отдельно стоящие деревья часто имеют зонтичную форму кроны.
- 4) Занимает значительные площади в Африке, Австралии и Южной Америке.
- 5) Пасутся большие стада копытных животных.

Выберите климатограмму, соответствующую климатическим особенностям указанной Вами природной зоны. Укажите в ответе её номер.

Пояснение.

Средняя температура воздуха, °С		Годовая амплитуда температур, °С	Среднегодовое количество осадков, мм	Месяц, на который приходится наибольшее количество осадков
в январе	в июле			
+20	+18	2	869	апрель

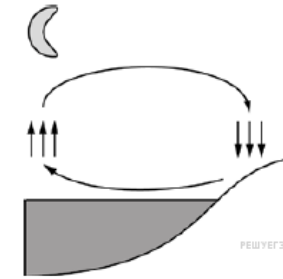
Критерии проверки:

Критерии оценивания выполнения задания	Баллы
В таблице допущено две или более ошибки. ИЛИ Ответ неправильный	0
В таблице допущена одна ошибка	1
Правильно заполнены все ячейки таблицы	2
Максимальный балл	2

12. Задание 4.1 № 516

Какой природный процесс отображён на схеме?

Рассмотрите схему природного процесса и выполните задания.



Пояснение.

Ответ: понижение температуры или образование бриза или образование ночного бриза.

Ответ: понижение температуры|образование бриза|образование ночного бриза

13. Задание 4.2 № 517

Установите последовательность этапов отображённого на схеме процесса в ночной период. Запишите в ответе порядковые номера этапов.

ЭТАПЫ:

- 1) Тёплый воздух с поверхности водоёма поднимается вверх.
- 2) Воздух остывает и перемещается в сторону суши.
- 3) Воздух с поверхности суши перемещается в сторону водоёма.
- 4) Над поверхностью суши происходит накопление холодного воздуха.
- 5) Холодный воздух опускается к поверхности суши.

Пояснение.

Ответ: 12453.

Ответ: 12453

14. Задание 4.3 № 518

Каковы последствия процесса, изображённого на схеме, в летний период?

Пояснение.

Ответ: прохладный ветер в сторону водоёма (допускается иная, близкая по смыслу формулировка).

Критерии проверки:

Критерии оценивания выполнения задания	Баллы
Ответ неверный	0
Ответ верный	1
Максимальный балл	1

**15. Задание 5.1 № 519**

Установите соответствие между географическими особенностями и материками, для которых они характерны: для этого к каждой позиции первого столбца подберите соответствующую позицию из второго столбца.

**ГЕОГРАФИЧЕСКИЕ ОСОБЕННОСТИ**

- А) Наибольшую площадь занимает природная зона тайги.
- Б) На востоке расположена горная система, протянувшаяся с севера на юг.
- В) Характерно наличие многолетней мерзлоты.
- Г) Расположен преимущественно в тропическом климатическом поясе.
- Д) Преобладает засушливый климат.
- Е) Состоит из двух частей света.

**МАТЕРИКИ**

- 1) Евразия
- 2) Австралия

Запишите в таблицу выбранные цифры под соответствующими буквами.

Ответ:

А	Б	В	Г	Д	Е
<input type="text"/>	<input type="text"/>	<input type="text"/>	<input type="text"/>	<input type="text"/>	<input type="text"/>

**Пояснение.**

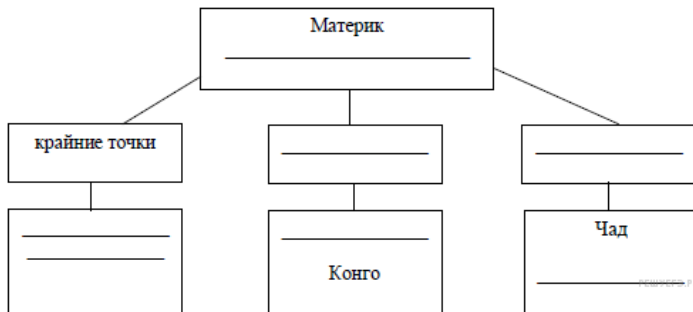
Ответ: 212112.

Ответ: 212112

**16. Задание 5.2 № 520**

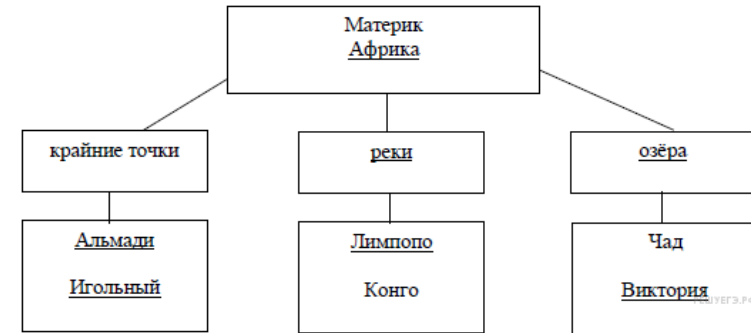
В приведённом ниже списке перечислены крупные географические объекты. Выберите из представленного ниже списка названия географических объектов, расположенных на территории одного из этих материков, и заполните схему. Впишите в схему название материка, типы и названия выбранных Вами географических объектов.

*Байкал, Эри, Виктория, Волга, Лимпопо, Амазонка, Аппалачи, Алтай, Игольный, Альмади, Рока, Байрон.*



**Пояснение.**

Правильный ответ должен содержать заполненную схему с вписанными в неё названием материка, типами и названиями географических объектов.



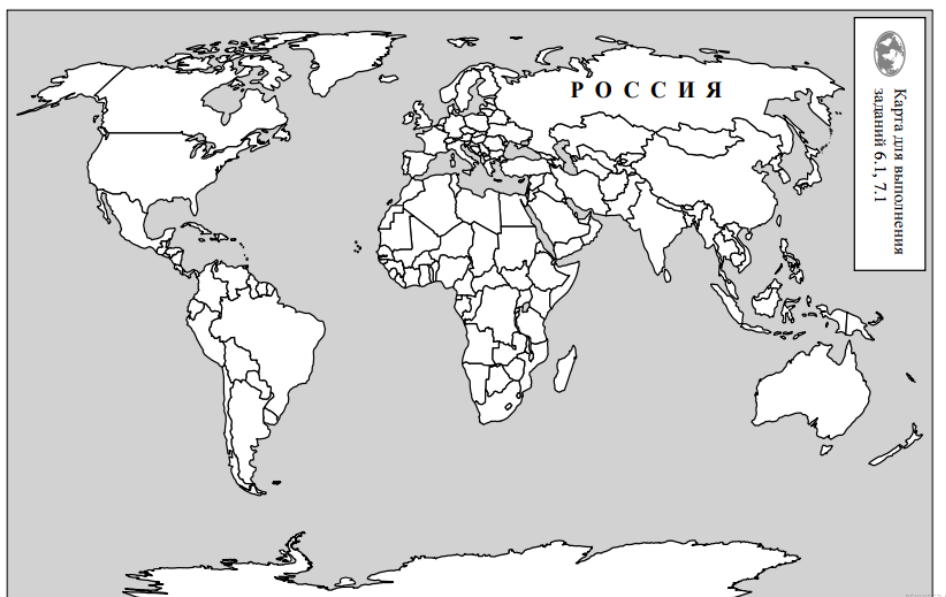
**Критерии проверки:**

Критерии оценивания выполнения задания	Баллы
В заполнении схемы допущено три или более ошибки. ИЛИ Ответ неправильный	0
В заполнении схемы допущено две ошибки	1
В заполнении схемы допущена одна ошибка	2
Схема заполнена правильно	3
<i>Максимальный балл</i>	3

**17. Задание 6.1 № 521**

На политической карте мира выделите штриховкой страны, в которых живут подростки.

Анджей и Кайрат познакомились на Международной олимпиаде по географии. Анджей живёт в столице Польши, а Кайрат — в столице Казахстана. Подростки общаются через Интернет, и при общении им приходится учитывать разницу во времени между их городами.



**Пояснение.**

Правильный ответ должен содержать выделение на карте двух стран: Польши и Казахстана.

**Критерии проверки:**

Критерии оценивания выполнения задания	Баллы
Правильно выделена только одна любая страна; вторая страна не выделена / выделена неправильно. ИЛИ Страны не выделены / выделены неправильно	0
Правильно выделены две страны	1
<i>Максимальный балл</i>	1

**18. Задание 6.2 № 522**

Часы на рисунках отображают время в городах, где живут подростки. Подпишите названия городов под соответствующими часами.



Гринвич    
 07 февраля 07 февраля 07 февраля  
 09:00 (полночь) 15:00 10:00

**Пояснение.**

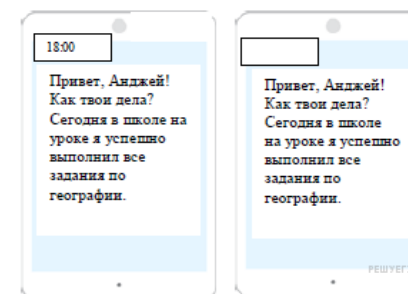
Правильный ответ должен содержать подписи названий двух городов: Астаны (столицы Казахстана) и Варшавы (столицы Польши).

**Критерии проверки:**

Критерии оценивания выполнения задания	Баллы
Правильно подписано название только одного любого города; название второго города не подписано / подписано неправильно. ИЛИ Названия городов не подписаны / подписаны неправильно.	0
Правильно подписаны названия двух городов	1
<i>Максимальный балл</i>	1

**19. Задание 6.3 № 523**

Кайрат отправил Анджею электронное сообщение в 18:00 по местному времени.



Какое время будет отображаться в соответствующем окне на экране смартфона Анджея, когда он получит сообщение от Кайрата?

**Пояснение.**

Ответ: 13:00.

Ответ: 13:00

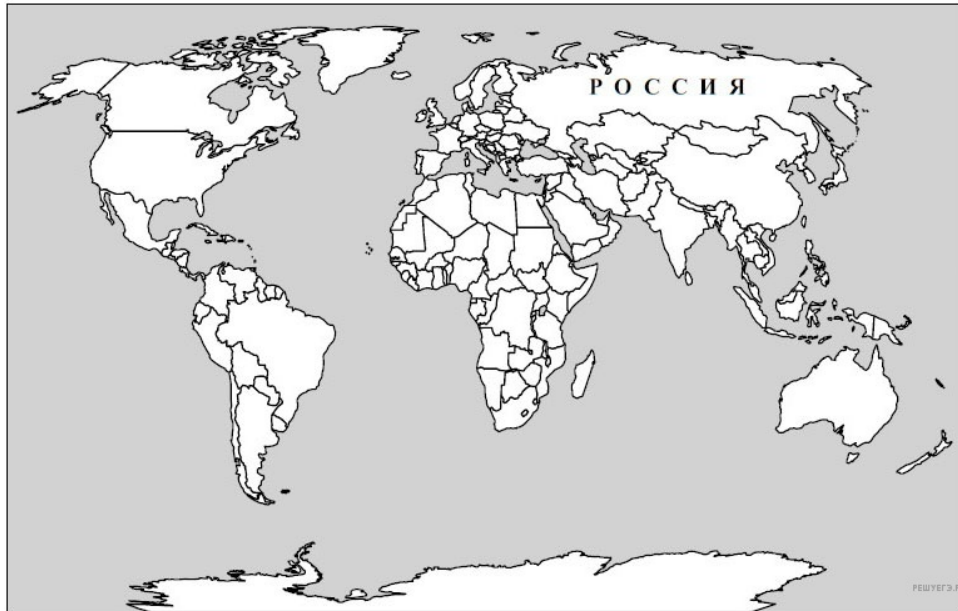
**20. Задание 7.1 № 524**

Подпишите на политической карте мира название страны с самой большой численностью населения.

Используя представленную ниже таблицу и политическую карту мира выполните задания.

Численность и состав населения, 2018 г.

№	Страна	Численность населения, млн человек	Состав населения, %		
			Доля населения в возрасте до 15 лет	Доля населения в возрасте от 15 до 65 лет	Доля населения в возрасте старше 65 лет
1	Бразилия	213	29	66	5
2	Эфиопия	111	47	50	3
3	Польша	38	18	69	13
4	Вьетнам	93	32	62	16



Пояснение.

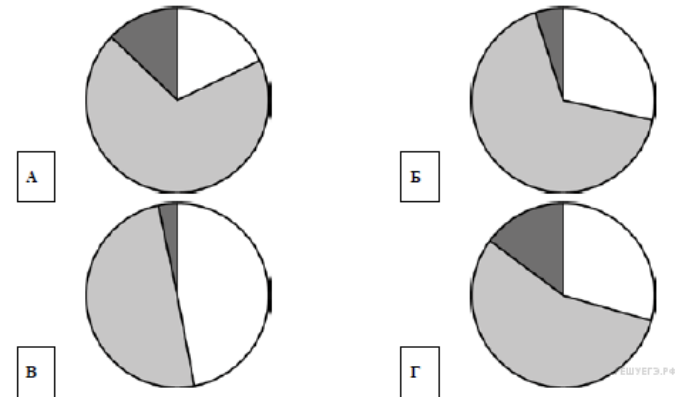
Правильный ответ должен содержать подпись на карте страны: Бразилия.

Критерии проверки:

Критерии оценивания выполнения задания	Баллы
Страна на карте подписана правильно	0
Страна на карте не подписана / подписана неправильно	1
<b>Максимальный балл</b>	<b>1</b>

21. Задание 7.2 № 525

Определите, возрастной состав населения какой страны отражает каждая диаграмма. Запишите в ответе порядковые номера стран под соответствующими буквами.



Ответ:

А	Б	В	Г
<input type="text"/>	<input type="text"/>	<input type="text"/>	<input type="text"/>

Пояснение.

Ответ: 3124.

Ответ: 3124

22. Задание 8.1 № 526

Представьте, что Вам было поручено взять интервью у зарубежного сверстника, чтобы он познакомил Вас со своей страной. Для иллюстрации этого интервью Вы попросили его прислать несколько фотографий, сделанных в стране, в которой он живёт.

Рассмотрите фотографии и ответьте на вопросы.



В какой стране живёт Ваш сверстник?  
Как называется столица этой страны?



**Пояснение.**

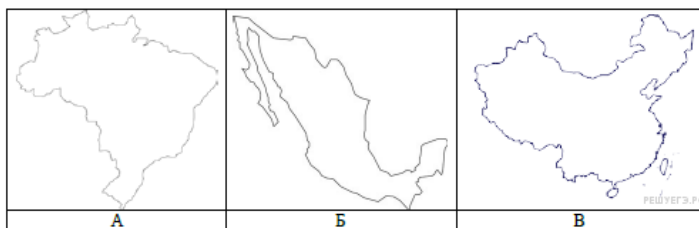
1. Ответ на первый вопрос: в Мексике.
2. Ответ на второй вопрос: Мехико.

**Критерии проверки:**

Критерии оценивания выполнения задания	Баллы
Правильно дан ответ только на второй вопрос; ответ на первый вопрос не дан / дан неправильно. ИЛИ Ответы на оба вопроса не даны / даны неправильно	0
Правильно дан ответ только на первый вопрос; ответ на второй вопрос не дан / дан неправильно	1
Правильно даны ответы на два вопроса	2
<i>Максимальный балл</i>	2

**23. Задание 8.2 № 527**

Рассмотрите представленные ниже рисунки. Выберите рисунок с контуром страны, в которой живёт Ваш сверстник. Запишите в ответе букву, которой обозначен этот рисунок.



**Пояснение.**

Ответ: Б.  
Ответ: Б

**24. Задание 8.3 № 528**

Предположите, какие ответы на вопросы о своей стране даст Ваш сверстник в ходе интервью. Запишите их в таблицу.

Вопрос	Ответ
1. В какой части света находится твоя страна?	
2. Воды какого океана омывают берега твоей страны?	

3. Какие крупные реки протекают по территории твоей стране?	
4. Какие крупные города, кроме столицы, есть в твоей стране?	
5. С какими государствами граничит твоя страна?	
6. Какие сельскохозяйственные культуры выращивают в твоей стране?	
7. Какие достопримечательности можно посмотреть в твоей стране?	

**Пояснение.**

Правильный ответ должен содержать ответы на семь вопросов.

Вопрос	Ответ
1. В какой части света находится твоя страна?	В Америке
2. Воды какого океана омывают берега твоей страны?	Тихого, Атлантического
3. Какие крупные реки протекают по территории твоей стране?	Рио-Гранде
4. Какие крупные города, кроме столицы, есть в твоей стране?	Тихуана; Пуэбла; Гвадалахара; Сьюдад-Хуарес; Леон; Запопан; Монтеррей; Несауалькойотль
5. С какими государствами граничит твоя страна?	США, Гватемала, Белиз
6. Какие сельскохозяйственные культуры выращивают в твоей стране?	Фрукты, овощи, пшеницу, кукурузу, хлопок, кофе
7. Какие достопримечательности можно посмотреть в твоей стране?	Медный каньон, Чичен-Ица, Парк Шкарет, Пирамиды Теотиуакан

Ответы на вопросы могут быть даны в иных, близких по смыслу формулировках. В ответах, предполагающих указание нескольких объектов, при оценивании может быть засчитано указание одного объекта.

**Критерии проверки:**

Критерии оценивания выполнения задания	Баллы
Правильно даны ответы на один — четыре вопроса. ИЛИ Ответ неправильный	0
Правильно даны ответы на пять-шесть вопросов; в ответе на один-два вопроса допущены ошибки / ответы на один-два вопроса не представлены	1
Правильно даны ответы на все вопросы	2
<i>Максимальный балл</i>	2

## Ключ

№ п/п	№ задания	Ответ
		Северный тропик&Тихий океан&Северный полярный круг&Южная Америка
2	506	
4	508	остров Куба
8	512	экваториальный&тропический&субэкваториальный
		понижение температуры образование бриза образование ночного бриза
12	516	
13	517	12453
15	519	212112
19	523	13:00
21	525	3124
23	527	Б