

**Вариант № 200**

**1. Задание 1.1 № 481**

На карте мира, изображён маршрут экспедиции одного из путешественников, портреты которых представлены ниже. Рассмотрите карту и портреты путешественников и выполните задания.  
Маршрут экспедиции кого из путешественников изображён на карте?



Марко Поло



Джеймс Кук



Семён Дежнёв

Подпишите на карте название материка, по которому проходил маршрут экспедиции.

Задания 1 – 3 выполняются с использованием карты мира.



**Пояснение.**

1. Указание путешественника: Марко Поло.
2. Подпись названия материка на карте: Евразия.

**Критерии проверки:**

--	--

Критерии оценивания выполнения задания	Баллы
Путешественник не указан / указан неправильно независимо от подписи названия материка на карте. ИЛИ Ответ неправильный	0
Правильно указан путешественник; название материка на карте не подписано / подписано неправильно	1
Правильно указан путешественник, подписан материк	2
<b>Максимальный балл</b>	<b>2</b>

**2. Задание 1.2 № 482**

На карте буквами обозначены объекты, определяющие географическое положение материка, по которому проходил маршрут экспедиции. Запишите в таблицу названия этих объектов.

А	Б	В	Г
<input type="text"/>	<input type="text"/>	<input type="text"/>	<input type="text"/>

**Пояснение.**

Ответ: А — Атлантический океан; Б — Африка; В — Северный тропик; Г — Тихий океан.

Ответ: Атлантический океан&Африка&Северный тропик&Тихий океан

**3. Задание 1.3 № 483**

По линии маршрута экспедиции отмечены точки, расположенные на территории крупных географических объектов. Определите и запишите в ответе географические координаты точки 1.

**Пояснение.**

Ответ: 1° с. ш. 104° в. д. (допускается погрешность в 1°).

**Критерии проверки:**

Критерии оценивания выполнения задания	Баллы
Ответ неверный	0
Ответ верный	1
<b>Максимальный балл</b>	<b>1</b>

**4. Задание 1.4 № 484**

Прочитайте текст, составленный по запискам путешественников, исследователей и туристов, посетивших объект, на территории которого расположена точка 1. Запишите в ответе название этого географического объекта.

Этот объект является крупным полуостровом на юго-востоке Азии. На западе он омывается Андаманским морем и водами Малаккского пролива, а на востоке — Южно-Китайским морем. Протяжённость полуострова с севера на юг составляет около 1300 км, а его площадь — около 190 тыс. км<sup>2</sup>. В северной части полуостров сужается, и его ширина становится около 44 км. В центральной части полуострова расположены низкие и средневысотные горы высотой до 2190 м. Климат на полуострове жаркий и влажный. Температура в течение всего года держится около 30 °С. Территорию полуострова

занимают три государства Мьянма, Таиланд и Малайзия.

**Пояснение.**

Ответ: полуостров Малакка.

Ответ: полуостров Малакка

**5. Задание 2.1 № 485**

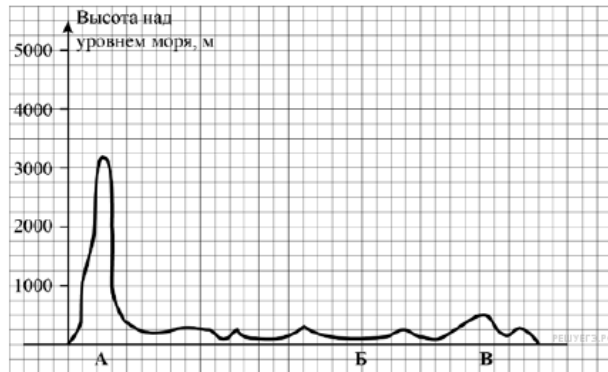
По какому из отрезков, проведённых на карте вдоль трёх параллелей, пересекающих материк Южная Америка, построен профиль рельефа? Укажите в ответе значение параллели.

Определите по карте протяжённость материка Южная Америка в градусах по указанной Вами параллели.

Рассчитайте протяжённость материка Южная Америка по указанной Вами параллели в километрах с помощью, приведённой ниже таблицы. (Для расчёта воспользуйтесь калькулятором.)

Широта	0°	10°	20°	30°	40°	50°	60°	70°	80°	90°
Длина дуги параллели в 1°, км	111,3	109,6	104,6	96,5	85,4	71,7	55,8	38,2	19,4	0

На уроке географии Владимир построил профиль рельефа Южной Америки, представленный на рисунке. Используя рисунок и карту мира, выполните задания.



**Пояснение.**

1. Значение параллели: 0° ш.
2. Протяжённость материка в градусах: 29° (допускается погрешность в 1°).
3. Протяжённость материка в километрах: 3228 км.

**Критерии проверки:**

Критерии оценивания выполнения задания	Баллы
Правильно указано только значение параллели; протяжённость материка в градусах и протяжённость материка в километрах не указаны / указаны неправильно. ИЛИ Ответ неправильный	0
Правильно указаны значение параллели и протяжённость материка в градусах, протяжённость материка в километрах не указана / указана неправильно	1
Правильно указаны значение параллели; протяжённость материка в градусах и протяжённость материка в километрах	2
<b>Максимальный балл</b>	<b>2</b>

**6. Задание 2.2 № 486**

Укажите географическое название крупной формы рельефа, которой соответствует участок профиля, обозначенный буквой В.

Определите наибольшую абсолютную высоту территории, через которую проходит профиль на этом участке.

**Пояснение.**

1. Название формы рельефа: Гвианское плоскогорье.
2. Абсолютная высота территории: 500 м.

**Критерии проверки:**

--	--

Критерии оценивания выполнения задания	Баллы
Форма рельефа не названа / названа неправильно независимо от определения абсолютной высоты территории. ИЛИ Ответ неправильный	0
Правильно названа форма рельефа; абсолютная высота территории не определена/определена неправильно	1
Форма рельефа не названа / названа неправильно независимо от определения абсолютной высоты территории. ИЛИ Ответ неправильный	2
<i>Максимальный балл</i>	2

7. Задание 2.3 № 487

На рисунке представлены значки, которыми обозначаются месторождения полезных ископаемых на географических картах.



Внесите в таблицу значки, обозначающие месторождения полезных ископаемых, которые добывают на территории, обозначенной на профиле буквой В.

Алюминиевые руды	Золото	Марганцевые руды	Железные руды

Пояснение.

Правильный ответ должен содержать таблицу с внесёнными в неё значками полезных ископаемых:

Алюминиевые руды	Золото	Марганцевые руды	Железные руды

Критерии проверки:

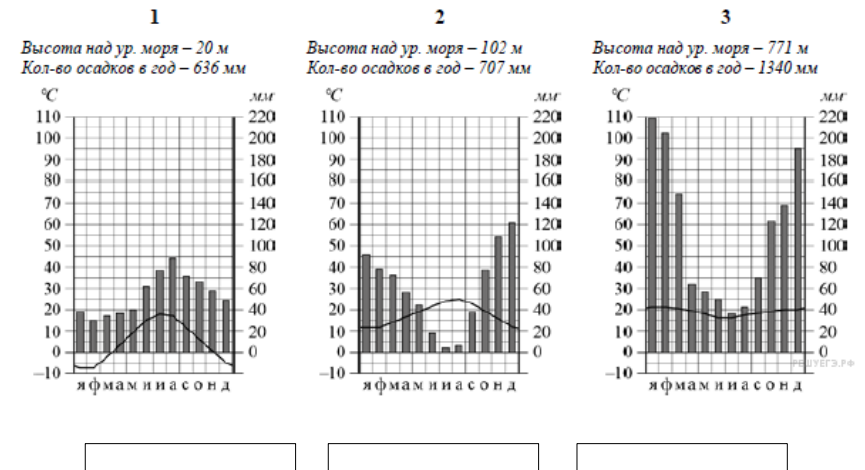
Критерии оценивания выполнения задания	Баллы
Правильно заполнены одна-две ячейки таблицы. ИЛИ Все ячейки таблицы заполнены неправильно / не заполнены	0
Правильно заполнены три ячейки таблицы	1
Правильно заполнены четыре ячейки таблицы	2
<i>Максимальный балл</i>	2

8. Задание 3.1 № 488

Рассмотрите рисунки с изображением климатограмм, построенных по данным метеонаблюдений в разных частях Земли, и выполните задания.

Определите, какому климатическому поясу соответствует каждая климатограмма. Подпишите

название климатического пояса под соответствующей климатограммой.



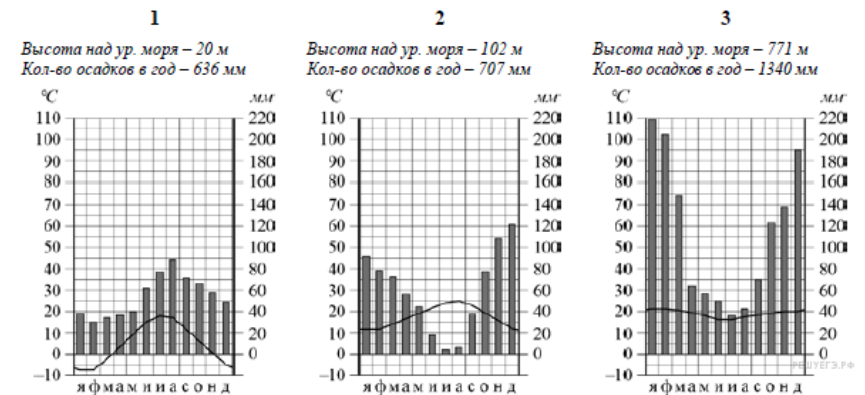
Пояснение.

Ответ: 1 — умеренный; 2 — субтропический; 3 — тропический.

Ответ: умеренный&субтропический&тропический

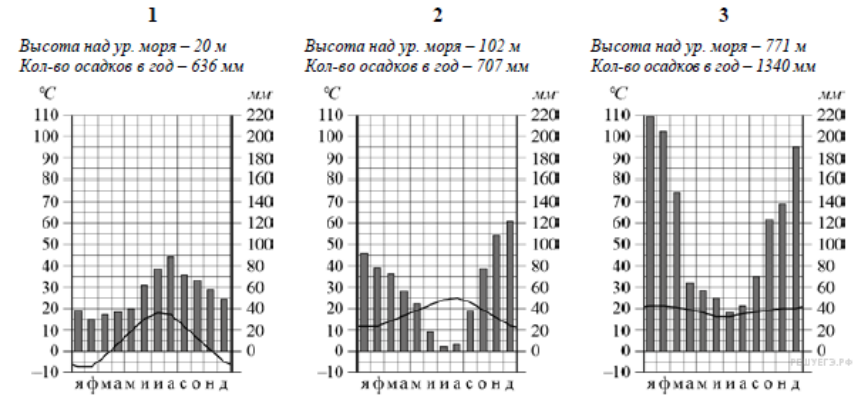
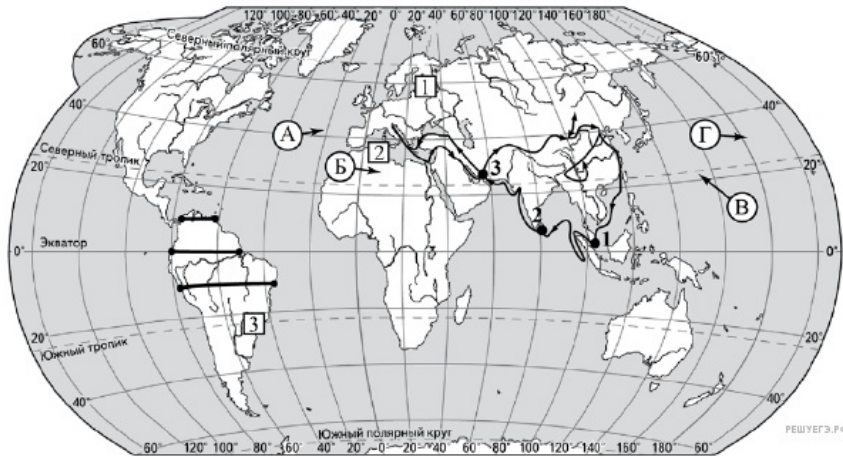
9. Задание 3.2 № 489

На карте мира территории, для которых построены изображённые на рисунках климатограммы, обозначены пустыми квадратами. Впишите в каждый квадрат на карте номер соответствующей климатограммы.



**Пояснение.**

Правильный ответ должен содержать запись трёх номеров климатограмм в пустые квадраты на карте.



**Критерии проверки:**

Критерии оценивания выполнения задания	Баллы
Правильно вписан только один номер климатограммы. ИЛИ Ответ неправильный	0
Правильно вписаны три номера климатограмм	1
<i>Максимальный балл</i>	1

**10. Задание 3.3 № 490**

Какой природной зоне мира соответствуют приведённые ниже характеристики? Укажите в ответе название этой природной зоны.

- Имеет широкое распространение в Северном полушарии.
- Характерна в том числе для районов распространения многолетней мерзлоты.
- Преобладает хвойная растительность.
- Наличие продолжительного периода с отрицательными температурами.
- Незначительный лиственный опад.

Выберите климатограмму, соответствующую климатическим особенностям указанной Вами природной зоны. Укажите в ответе её номер.

**Пояснение.**

- Название природной зоны: тайга.
- Номер климатограммы: 1.

**Критерии проверки:**

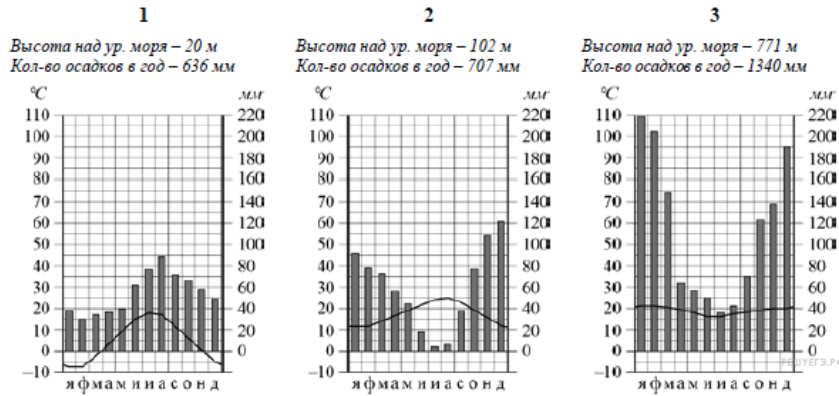
Критерии оценивания выполнения задания	Баллы
Название природной зоны не указано независимо от указания номера климатограммы. ИЛИ Ответ неправильный	0
Правильно указано название природной зоны; номер климатограммы не указан / указан неправильно	1
Правильно указаны название природной зоны и номер климатограммы	2
<i>Максимальный балл</i>	2

**11. Задание 3.4 № 491**

По выбранной Вами в задании 3.3. климатограмме определите климатические показатели для указанной природной зоны и заполните таблицу.

Средняя температура воздуха, °С		Годовая амплитуда температур, °С	Среднегодовое количество осадков, мм	Месяц, на который приходится наибольшее количество осадков
в январе	в июле			





Для выполнения задание приводим текст задания 3.3:

Какой природной зоне мира соответствуют приведённые ниже характеристики? Укажите в ответе название этой природной зоны.

- 1) Имеет широкое распространение в Северном полушарии.
- 2) Характерна в том числе для районов распространения многолетней мерзлоты.
- 3) Преобладает хвойная растительность.
- 4) Наличие продолжительного периода с отрицательными температурами.
- 5) Незначительный лиственный опад.

Выберите климатограмму, соответствующую климатическим особенностям указанной Вами природной зоны. Укажите в ответе её номер.

**Пояснение.**

Средняя температура воздуха, °С		Годовая амплитуда температур, °С	Среднегодовое количество осадков, мм	Месяц, на который приходится наибольшее количество осадков.
в январе	в июле			
-7	+18	25	636	август

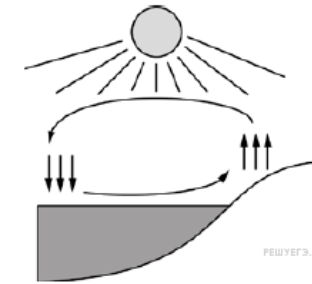
**Критерии проверки:**

Критерии оценивания выполнения задания	Баллы
В таблице допущено две или более ошибки. ИЛИ Ответ неправильный	0
В таблице допущена одна ошибка	1
Правильно заполнены все ячейки таблицы	2
<i>Максимальный балл</i>	2

12. Задание 4.1 № 492

Какой природный процесс отображён на схеме?

Рассмотрите схему природного процесса и выполните задания.



**Пояснение.**

Ответ: образование дневного бриза.

Ответ: образование дневного бриза

13. Задание 4.2 № 493

Установите последовательность этапов отображённого на схеме процесса в дневной период. Запишите в ответе порядковые номера этапов.

**ЭТАПЫ:**

- 1) Тёплый воздух с поверхности суши поднимается вверх, остывает и перемещается в сторону водоёма.
- 2) Суша прогревается быстрее и интенсивнее.
- 3) Влажный воздух с поверхности водоёма перемещается в сторону суши.
- 4) Над поверхностью водоёма происходит накопление холодного воздуха.
- 5) Холодный воздух опускается к поверхности водоёма.

**Пояснение.**

Ответ: 21453.

Ответ: 21453

14. Задание 4.3 № 494

Каковы последствия процесса, изображённого на схеме, в летний период?

**Пояснение.**

Ответ: некоторое понижение температуры в береговой зоне, прохладный ветер со стороны водоёма (допускается иная, близкая по смыслу формулировка).

**Критерии проверки:**

Критерии оценивания выполнения задания	Баллы
	0
	1
<i>Максимальный балл</i>	1

15. Задание 5.1 № 495

Установите соответствие между географическими особенностями и материками, для которых они характерны: для этого к каждой позиции первого столбца подберите соответствующую позицию из второго столбца.

**ГЕОГРАФИЧЕСКИЕ ОСОБЕННОСТИ**

- А) Наибольшую площадь занимает природная зона тайги.
- Б) На востоке расположена горная система, протянувшаяся с севера на юг.
- В) Характерно наличие многолетней мерзлоты.
- Г) Расположен преимущественно в тропическом климатическом поясе.
- Д) Преобладает засушливый климат.
- Е) Состоит из двух частей света.

**МАТЕРИКИ**

- 1) Евразия
- 2) Австралия

Запишите в таблицу выбранные цифры под соответствующими буквами.

Ответ:

А	Б	В	Г	Д	Е
<input type="text"/>	<input type="text"/>	<input type="text"/>	<input type="text"/>	<input type="text"/>	<input type="text"/>

**Пояснение.**

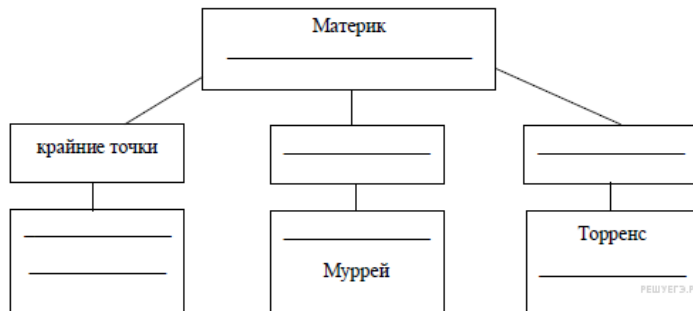
Ответ: 121221.

Ответ: 121221

**16. Задание 5.2 № 496**

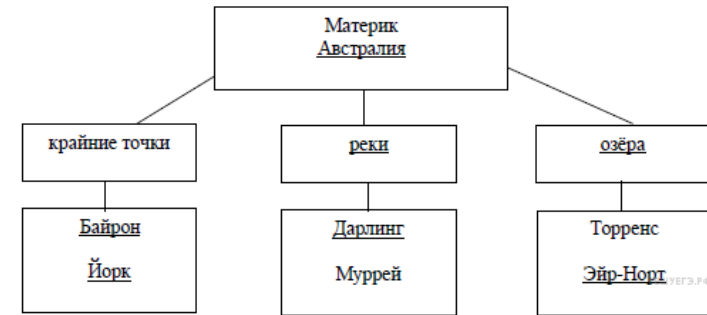
В приведённом ниже списке перечислены крупные географические объекты. Выберите из представленного ниже списка названия географических объектов, расположенных на территории одного из этих материков, и заполните схему. Впишите в схему название материка, типы и названия выбранных Вами географических объектов.

*Амазонка, Нил, Эйр-Норт. Рока, Байкал, Эри, Волга, Альпы, Дарлинг, Байрон, Дежнёва, Йорк.*



**Пояснение.**

Правильный ответ должен содержать заполненную схему с вписанными в неё названием материка, типами и названиями географических объектов.



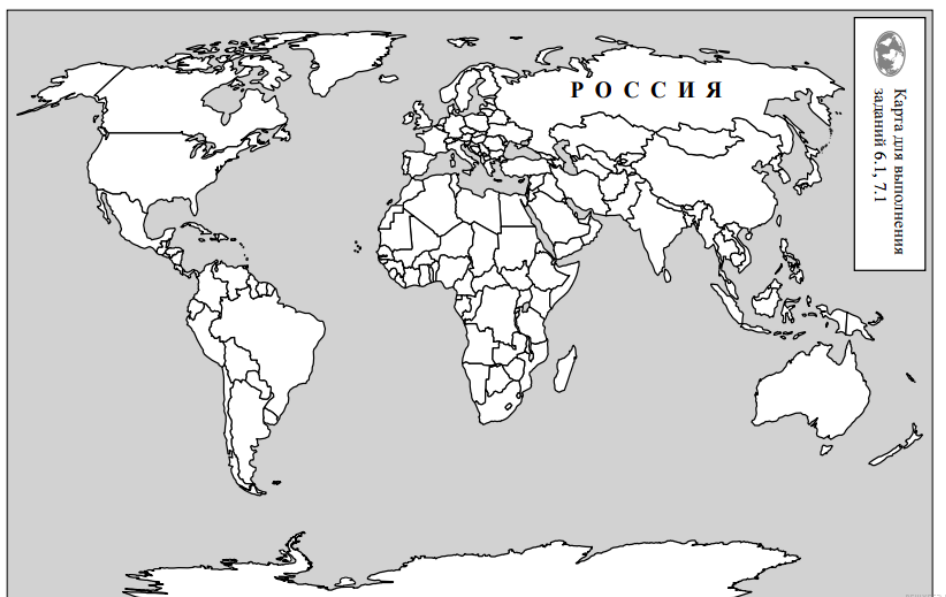
**Критерии проверки:**

Критерии оценивания выполнения задания	Баллы
В заполнении схемы допущено три или более ошибки. ИЛИ Ответ неправильный	0
В заполнении схемы допущено две ошибки	1
В заполнении схемы допущена одна ошибка	2
Схема заполнена правильно	3
<i>Максимальный балл</i>	3

**17. Задание 6.1 № 497**

На политической карте мира выделите штриховкой страны, в которых живут подростки.

Ливей и Мишель познакомились на Международной олимпиаде по географии. Ливей живёт в столице Китая, а Мишель — в столице Франции. Подростки общаются через Интернет, и при общении им приходится учитывать разницу во времени между их городами.



**Пояснение.**

Правильный ответ должен содержать выделение на карте двух стран: Китая и Франции.

**Критерии проверки:**

Критерии оценивания выполнения задания	Баллы
Правильно выделена только одна любая страна; вторая страна не выделена / выделена неправильно. ИЛИ Страны не выделены / выделены неправильно	0
Правильно выделены две страны	1
<i>Максимальный балл</i>	1

**18. Задание 6.2 № 498**

Часы на рисунках отображают время в городах, где живут подростки. Подпишите названия городов под соответствующими часами.



Гринвич    
 07 февраля 07 февраля 07 февраля  
 09:00 (полночь) 17:00 10:00

**Пояснение.**

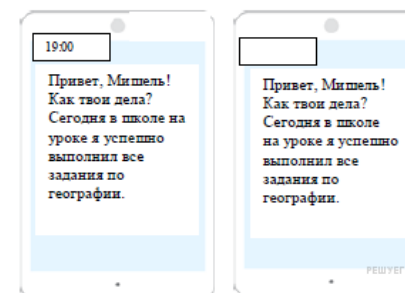
Правильный ответ должен содержать подписи названий двух городов: Пекина (столицы Китая) и Парижа (столицы Франции).

**Критерии проверки:**

Критерии оценивания выполнения задания	Баллы
Правильно подписано название только одного любого города; название второго города не подписано / подписано неправильно. ИЛИ Названия городов не подписаны / подписаны неправильно.	0
Правильно подписаны названия двух городов	1
<i>Максимальный балл</i>	1

**19. Задание 6.3 № 499**

Ливей отправил Мишель электронное сообщение в 19:00 по местному времени.



Какое время будет отображаться в соответствующем окне на экране смартфона Мишеля, когда он получит сообщение от Ливея?

**Пояснение.**

Ответ: 12:00.

Ответ: 12:00

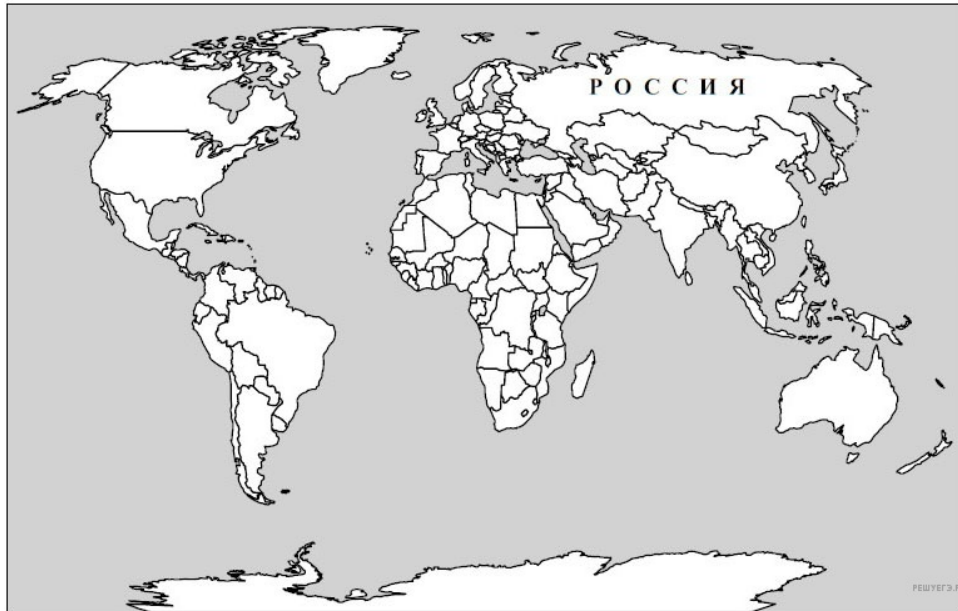
**20. Задание 7.1 № 500**

Подпишите на политической карте мира название страны с самой большой численностью населения.

Используя представленную ниже таблицу и политическую карту мира выполните задания.

Численность и состав населения, 2018 г.

№	Страна	Численность населения, млн человек	Состав населения, %		
			Доля населения в возрасте до 15 лет	Доля населения в возрасте от 15 до 65 лет	Доля населения в возрасте старше 65 лет
1	Албания	3	30	64	6
2	США	328	21	66	13
3	Судан	41	45	53	2
4	Германия	83	16	68	16



Пояснение.

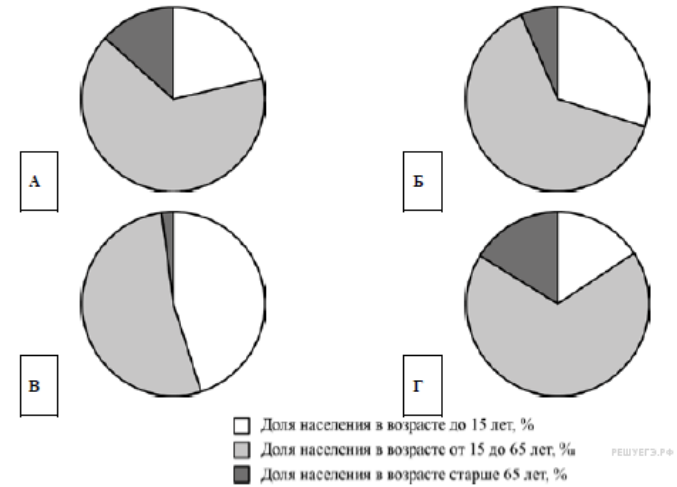
Правильный ответ должен содержать подпись на карте страны: США.

Критерии проверки:

Критерии оценивания выполнения задания	Баллы
Страна на карте подписана правильно	0
Страна на карте не подписана / подписана неправильно	1
<b>Максимальный балл</b>	<b>1</b>

21. Задание 7.2 № 501

Определите, возрастной состав населения какой страны отражает каждая диаграмма. Запишите в ответе порядковые номера стран под соответствующими буквами.



Ответ:

А	Б	В	Г
<input type="text"/>	<input type="text"/>	<input type="text"/>	<input type="text"/>

Пояснение.

Ответ: 2134.

Ответ: 2134

22. Задание 8.1 № 502

Представьте, что Вам было поручено взять интервью у зарубежного сверстника, чтобы он познакомил Вас со своей страной. Для иллюстрации этого интервью Вы попросили его прислать несколько фотографий, сделанных в стране, в которой он живёт.

Рассмотрите фотографии и ответьте на вопросы.



В какой стране живёт Ваш сверстник?  
Как называется столица этой страны?



**Пояснение.**

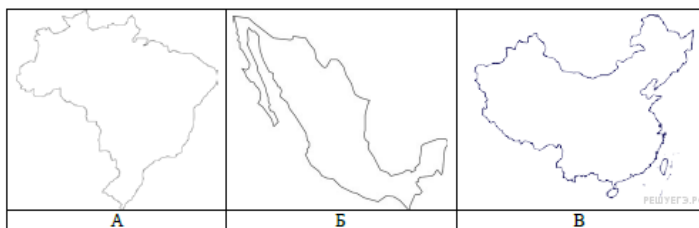
1. Ответ на первый вопрос: в Китае.
2. Ответ на второй вопрос: Пекин.

**Критерии проверки:**

Критерии оценивания выполнения задания	Баллы
Правильно дан ответ только на второй вопрос; ответ на первый вопрос не дан / дан неправильно. ИЛИ Ответы на оба вопроса не даны / даны неправильно	0
Правильно дан ответ только на первый вопрос; ответ на второй вопрос не дан / дан неправильно	1
Правильно даны ответы на два вопроса	2
<i>Максимальный балл</i>	2

**23. Задание 8.2 № 503**

Рассмотрите представленные ниже рисунки. Выберите рисунок с контуром страны, в которой живёт Ваш сверстник. Запишите в ответе букву, которой обозначен этот рисунок.



**Пояснение.**

- Ответ: В.  
 Ответ: В

**24. Задание 8.3 № 504**

Предположите, какие ответы на вопросы о своей стране даст Ваш сверстник в ходе интервью. Запишите их в таблицу.

Вопрос	Ответ
1. В какой части света находится твоя страна?	
2. Воды какого океана омывают берега твоей страны?	

3. Какие крупные реки протекают по территории твоей стране?	
4. Какие крупные города, кроме столицы, есть в твоей стране?	
5. С какими государствами граничит твоя страна?	
6. Какие сельскохозяйственные культуры выращивают в твоей стране?	
7. Какие достопримечательности можно посмотреть в твоей стране?	

**Пояснение.**

Правильный ответ должен содержать ответы на семь вопросов.

Вопрос	Ответ
1. В какой части света находится твоя страна?	В Азии
2. Воды какого океана омывают берега твоей страны?	Тихого
3. Какие крупные реки протекают по территории твоей стране?	Янцзы, Хуанхэ
4. Какие крупные города, кроме столицы, есть в твоей стране?	Шанхай, Лхаса, Гуанчжоу, Сянган
5. С какими государствами граничит твоя страна?	Россия, Монголия, КНДР, Казахстан, Киргизия, Таджикистан, Афганистан, Индия, Непал, Бутан, Мьянма, Лаос, Вьетнам
6. Какие сельскохозяйственные культуры выращивают в твоей стране?	Рис, фрукты, овощи, пшеницу, кукурузу, хлопок, чай
7. Какие достопримечательности можно посмотреть в твоей стране?	Великая китайская стена, Запретный город, Храм Неба

*Ответы на вопросы могут быть даны в иных, близких по смыслу формулировках. В ответах, предполагающих указание нескольких объектов, при оценивании может быть засчитано указание одного объекта.*

**Критерии проверки:**

Критерии оценивания выполнения задания	Баллы
Правильно даны ответы на один — четыре вопроса. ИЛИ Ответ неправильный	0
Правильно даны ответы на пять-шесть вопросов; в ответе на один-два вопроса допущены ошибки / ответы на один-два вопроса не представлены	1
Правильно даны ответы на все вопросы	2
<i>Максимальный балл</i>	2

## Ключ

№ п/п	№ задания	Ответ
2	482	Атлантический океан&Африка&Северный тропик&Тихий океан
4	484	полуостров Малакка
8	488	умеренный&субтропический&тропический
12	492	образование дневного бриза
13	493	21453
15	495	121221
19	499	12:00
21	501	2134
23	503	В