

Вариант № 11**ГИА по географии 31.05.2013. Основная волна. Урал. Вариант 1308.****1. Задание 1 № 287**

Какой мореплаватель командовал экспедицией, совершившей первое кругосветное плавание?

- 1) Васко да Гама
- 2) Фернан Магеллан
- 3) Христофор Колумб
- 4) Джеймс Кук

2. Задание 2 № 288

По акватории какого из перечисленных морей проходит морская Государственная граница Российской Федерации?

- 1) Белое
- 2) Берингово
- 3) Красное
- 4) Северное

3. Задание 3 № 289

В каком из перечисленных регионов России лето наиболее тёплое?

- 1) Калининградская область
- 2) Республика Коми
- 3) Астраханская область
- 4) Республика Карелия

4. Задание 4 № 290

Такие неблагоприятные климатические явления, как засухи, суховеи и пыльные бури, значительно затрудняют хозяйственное использование территории. Для какой из перечисленных территорий они наиболее характерны?

- 1) Республика Калмыкия
- 2) Пермский край
- 3) Хабаровский край
- 4) Республика Карелия

5. Задание 5 № 291

В каком из перечисленных регионов России действуют крупные предприятия чёрной металлургии полного цикла?

- 1) Европейский Юг
- 2) Урал
- 3) Поволжье
- 4) Дальний Восток

6. Задание 6 № 292

К традиционным занятиям какого из перечисленных народов России относится оленеводство и рыболовство?

- 1) марийцы
- 2) карачаевцы
- 3) ненцы
- 4) калмыки

7. Задание 8 № 293

В каком году в Астраханской области наблюдалось наибольшее превышение рождаемости над смертностью?

Изменение численности населения Астраханской области в 2007–2010 гг.

Показатель	2007 г.	2008 г.	2009 г.	2010 г.
Общий прирост населения за год, человек	6747	4367	1872	–381
Естественный прирост населения за год, человек	–615	561	820	671

- 1) 2007 г.
- 2) 2008 г.
- 3) 2009 г.
- 4) 2010 г.

8. Задание 7 № 294

В какой из перечисленных областей средняя плотность населения наименьшая?

- 1) Мурманская
- 2) Свердловская
- 3) Новосибирская
- 4) Кемеровская

9. Задание 10 № 295

Какой из городов, показанных на карте, находится в зоне действия антициклона?



- 1) Нарьян-Мар
- 2) Псков
- 3) Москва
- 4) Хабаровск

10. Задание 11 № 296

Карта погоды составлена на 7 декабря. В каком из показанных на карте городов на следующий день наиболее вероятно существенное похолодание?



- 1) Абакан
- 2) Воронеж
- 3) Ханты-Мансийск
- 4) Красноярск

11. Задание 6 № 297

Какой из перечисленных видов природных ресурсов относится к исчерпаемым возобновимым?

- 1) каменный уголь
- 2) нефть
- 3) почвенные
- 4) энергия солнца

12. Задание 13 № 298

В каком из высказываний содержится информация о миграциях населения?

- 1) В 2010 г. в России насчитывалось 25 городов с численностью населения от 500 тыс. до 1 млн человек.
- 2) В 2010 г. в Россию на постоянное место жительства прибыло 191 656 человек, выбыло за пределы страны 33 578 человек.
- 3) В 2010 г. население РФ проживало в 2386 городских населённых пунктах (городах и посёлках городского типа) и 134 тыс. сельских населённых пунктах.
- 4) В 2010 г. рождаемость в Москве составляла 123 тыс. человек, смертность — 126 тыс. человек, то есть наблюдалась естественная убыль населения 3 тыс. человек.

13. Задание 16 № 299

На территории какой из перечисленных стран также имеются действующие вулканы?


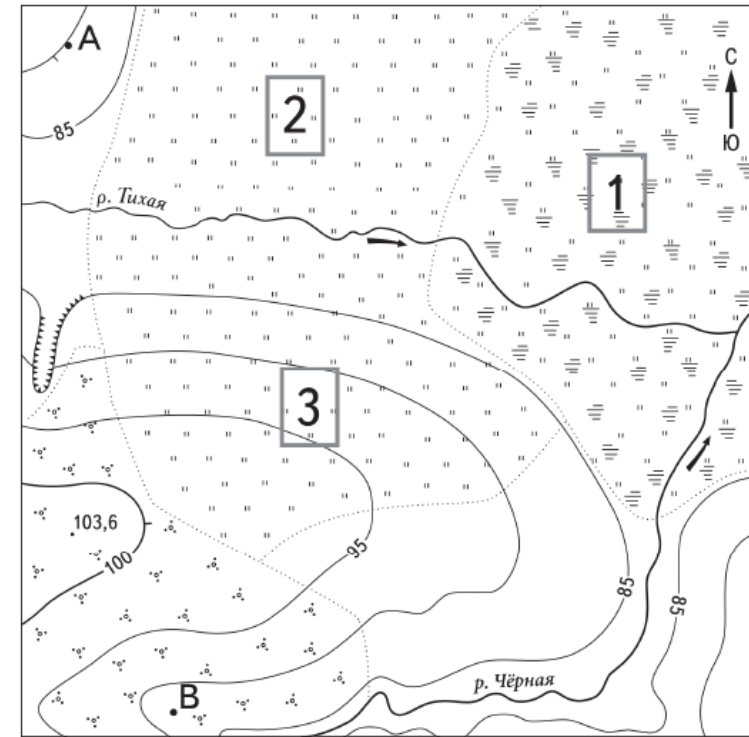
- | | |
|--------------|--------------|
| 1) Польша | 2) Исландия |
| 3) Австралия | 4) Финляндия |

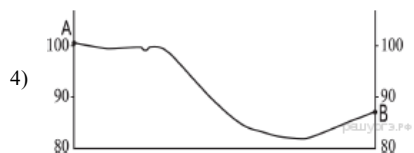

В ответе укажите номера верных вариантов без пробелов и запятых.

12 сентября 2012 г. более 10,6 тыс. человек были эвакуированы в Гватемале из окрестностей вулкана Фуэго в связи с его резко возросшей активностью. Национальный координационный совет по борьбе с последствиями стихийных бедствий объявил высший уровень тревоги в окрестностях вулкана. Такое решение было принято после того, как в кратере Фуэго произошли сильные взрывы, после которых зарегистрированы выбросы газов, достигших высоты более 1 км. Вулкан Фуэго, высота которого составляет 3700 метров над уровнем моря, периодически напоминает о себе выбросами раскалённых газов и пепла.

14. Задание 21 № 300

На рисунках представлены варианты профиля рельефа местности, построенные на основе карты по линии А—В разными учащимися. Какой из профилей построен верно?





15. Задание 22 № 301

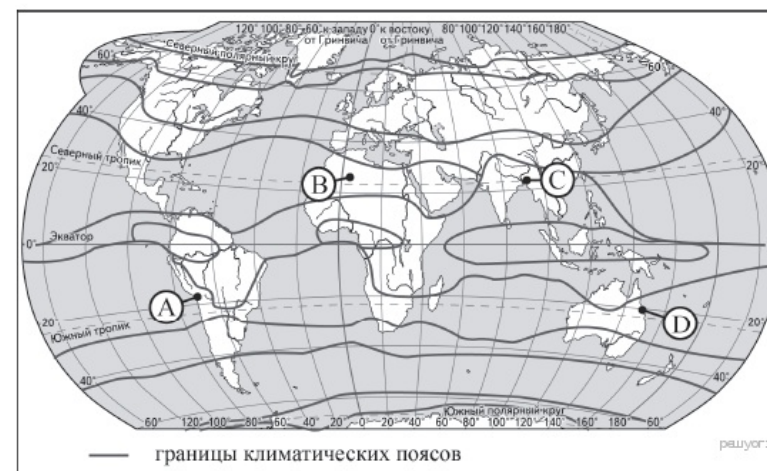
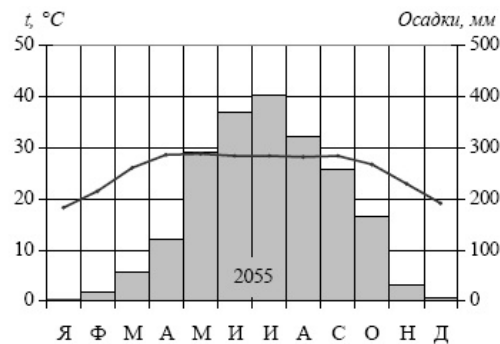
Карты какого географического района России необходимо выбрать, чтобы более детально изучить географические особенности Иркутской области?

- 1) Восточной Сибири
- 2) Урала
- 3) Поволжья
- 4) Европейского Севера

Восточно-Сибирская металлургическая компания к 2014 г. планирует построить в г. Братске Иркутской области электрометаллургический завод, который будет перерабатывать лом чёрных металлов и производить строительную арматуру. На заводе будет установлено новейшее оборудование, позволяющее в одном производственном модуле совместить переработку металла и выпуск готовой продукции. Мощность завода — 500 тыс. т металла в год.

16. Задание 27 № 302

Проанализируйте климатограмму и определите, какой буквой на карте обозначен пункт, характеристики климата которого отражены в климатограмме.



- 1) A
- 2) B
- 3) C
- 4) D

17. Задание 28 № 303

Учащиеся проанализировали собранные данные в целях выявления зависимости между особенностями климата и географическим положением пункта. У всех учащихся выводы получились разные. Кто из учащихся сделал верный вывод на основе представленных данных?

- 1) Кирилл: «Зимой с увеличением высоты температура воздуха возрастает».
- 2) Виктория: «При движении с северо-запада на юго-восток количество атмосферных осадков постепенно увеличивается».
- 3) Ольга: «При движении с северо-запада на юго-восток лето становится теплее».
- 4) Константин: «Чем выше расположен пункт, тем выпадает больше атмосферных осадков».

Школьники нашли в Интернете климатические данные для пунктов, расположенных в Евразии. Данные получены на местных метеостанциях в результате многолетних наблюдений. Собранные школьниками данные представлены в следующей таблице.

Пункт наблюдения	Географические координаты пункта наблюдения	Средняя температура воздуха, °С		Среднегодовое количество атмосферных осадков, мм	Высота над уровнем моря, м
		январь	июль		
Вастервик	57° с.ш. 16° в.д.	-1,7	+16,9	532	33
Легионово	52° с.ш. 21° в.д.	-3,1	+18,8	446	104
Черновцы	48° с.ш. 26° в.д.	-4,9	+19,1	632	250
Чанкыры	40° с.ш. 33° в.д.	+1,2	+23,8	409	750

18. Задание 29 № 304

В каком из перечисленных населённых пунктов 21 марта Солнце позже всего по московскому времени поднимется над горизонтом?

- 1) Вастервик
- 2) Легионово
- 3) Черновцы
- 4) Чанкыры

19. Задание 9 № 305

Определите миграционный прирост населения Астраханской области в 2009 г. Ответ запишите в виде числа.

Изменение численности населения Астраханской области в 2007–2010 гг.

Показатель	2007 г.	2008 г.	2009 г.	2010 г.
Общий прирост населения за год, человек	6747	4367	1872	-381
Естественный прирост населения за год, человек	-615	561	820	671

20. Задание 17 № 306

Расположите перечисленные ниже города в порядке увеличения в них численности населения. Запишите в ответ получившуюся последовательность букв.

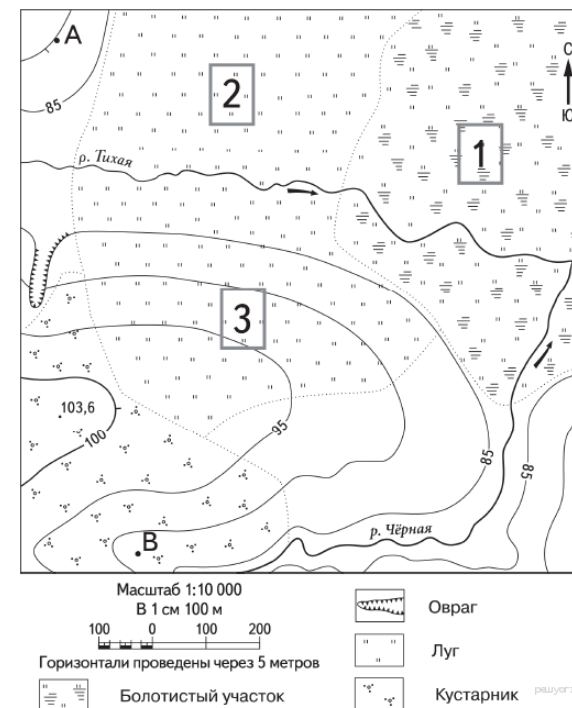
- А) Благовещенск
- Б) Санкт-Петербург
- В) Саратов

21. Задание 14 № 307

Определите, какой город (административный центр субъекта РФ) имеет географические координаты 43° с.ш. 132° в.д.

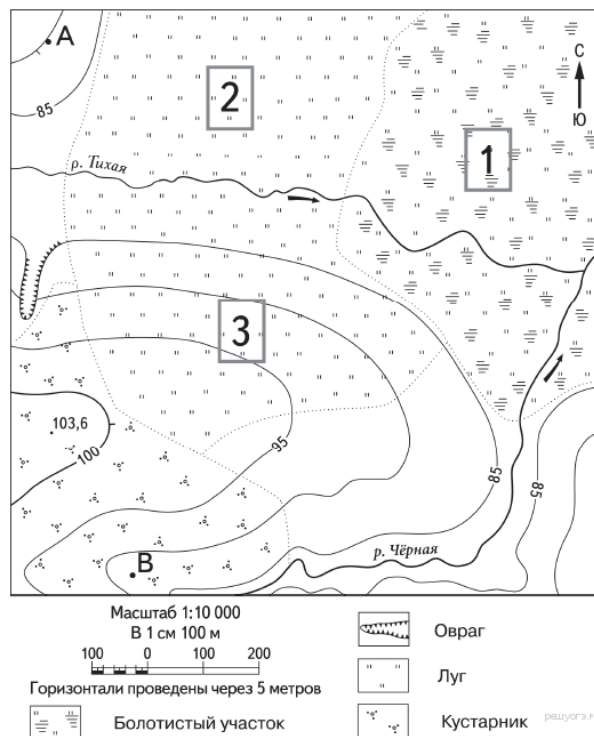
22. Задание 18 № 308

Определите по карте расстояние на местности по прямой от точки А до точки с высотой 103,6. Полученный результат округлите до десятков метров. Ответ запишите в виде числа.



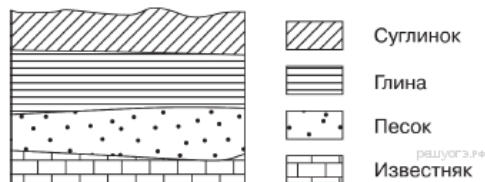
23. Задание 19 № 309

Определите по карте, в каком направлении от точки А находится точка с высотой 103,6.



24. Задание 26 № 310

Во время экскурсии учащиеся сделали схематическую зарисовку залегания горных пород на обрыве в карьере.



Расположите показанные на рисунке слои горных пород в порядке увеличения их возраста (от самого молодого до самого древнего). Запишите в ответ получившуюся последовательность букв.

- А) песок
- Б) глина
- В) суглинок

25. Задание 25 № 311

Туристические фирмы разных регионов России разработали слоганы (рекламные лозунги) для привлечения туристов в свои регионы. Установите соответствие между слоганом и регионом.

СЛОГАН

РЕГИОН

- А) Приглашаем в край голубых озёр и рек, в край белых ночей! Посетите памятники культуры Кижи и Валаам!
- Б) Посетите города-курорты нашего региона, по своему разнообразию и ценности минеральных вод и лечебной грязи не имеющие аналогов в Европе!

- 1) Республика Карелия
- 2) Ставропольский край
- 3) Тюменская область
- 4) Самарская область

Запишите в ответ цифры, расположив их в порядке, соответствующем буквам:

А	Б

26. Задание 24 № 312

Расположите регионы России в той последовательности, в которой их жители встречают Новый год. Запишите в ответ получившуюся последовательность букв.

- А) Тюменская область
- Б) Республика Татарстан
- В) Амурская область

27. Задание 30 № 313

Определите страну по её краткому описанию.

Вся территория этой страны находится в Южном полушарии. На востоке она омывается водами Атлантического океана, вдоль её юго-восточного и восточного побережья проходит одно из холодных течений. Территория вытянута в меридиональном направлении. Вдоль всей западной границы простираются горы. Разведаны месторождения медных, железных, урановых, марганцевых руд, природного газа и нефти. Большая часть территории расположена в природной зоне степей (пампы), полупустынь и пустынь.

28. Задание 15 № 314

12 сентября 2012 г. более 10,6 тыс. человек были эвакуированы в Гватемале из окрестностей вулкана Фуэго в связи с его резко возросшей активностью. Национальный координационный совет по борьбе с последствиями стихийных бедствий объявил высший уровень тревоги в окрестностях вулкана. Такое решение было принято после того, как в кратере Фуэго произошли сильные взрывы, после которых зарегистрированы выбросы газов, достигших высоты более 1 км. Вулкан Фуэго, высота которого составляет 3700 метров над уровнем моря, периодически напоминает о себе выбросами раскалённых газов и пепла.

Чем объясняется наличие в Гватемале действующих вулканов?

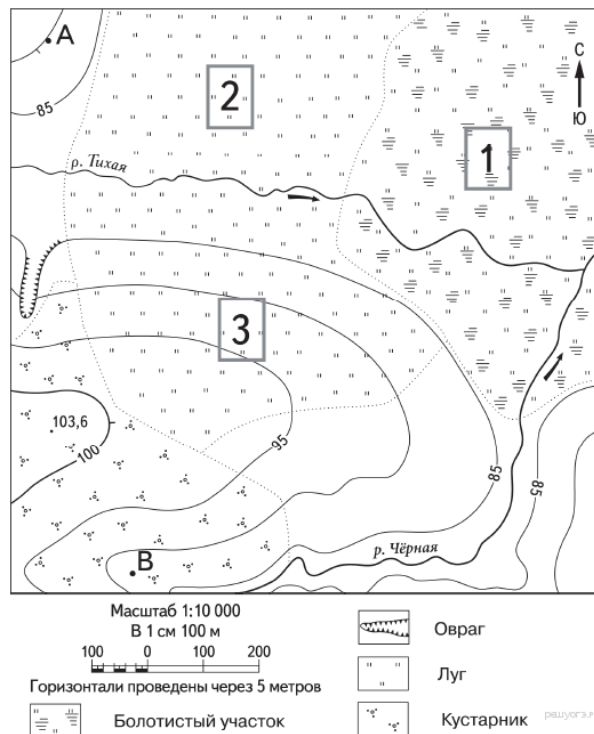
Критерии проверки:

Критерии оценивания выполнения задания	Баллы
Ответ включает оба названных выше элемента	2
Ответ включает один (любой) из названных выше элементов	1

Все ответы, которые не соответствуют вышеуказанным критериям выставления оценок в 1 и 2 балла	0
Максимальный балл	2

29. Задание 20 № 315

Школьники выбирают место для игры в футбол. Оцените, какой из участков, обозначенных на карте цифрами 1, 2 и 3, больше всего подходит для этого. Для обоснования своего ответа приведите два довода.



Критерии проверки:

Критерии оценивания выполнения задания	Баллы
Ответ включает оба названных выше элемента	2
Ответ включает один (любой) из названных выше элементов	1
Все ответы, которые не соответствуют вышеуказанным критериям выставления оценок в 1 и 2 балла	0
Максимальный балл	2

30. Задание 23 № 316

Какая особенность хозяйства г. Братска способствовала выбору места для создания энергоёмкого производства, о котором говорится в тексте?

Критерии проверки:

Критерии оценивания выполнения задания	Баллы
Ответ включает названные элементы	1
Ответ не включает названные элементы	0
Максимальный балл	1

Ключ

№ п/п	№ задания	Ответ
1	287	2
2	288	2
3	289	3
4	290	1
5	291	2
6	292	3
7	293	3
8	294	1
9	295	1
10	296	2
11	297	3
12	298	2
13	299	2
14	300	3
15	301	1
16	302	3
17	303	3
18	304	1
19	305	1052
20	306	АВБ
21	307	Владивосток
22	308	690 700 710
23	309	на юге в южном южном юг ю
24	310	ВБА
25	311	12
26	312	ВАБ
27	313	Аргентина