

Вариант № 12**ГИА по географии 31.05.2013. Основная волна. Сибирь, Дальний Восток. Вариант 1309.****1. Задание 1 № 317**

На каком материке находится самая полноводная река мира?

- 1) Африка
- 2) Южная Америка
- 3) Евразия
- 4) Северная Америка

2. Задание 2 № 318

С какой из перечисленных стран Россия не имеет границы?

- 1) Армения
- 2) Азербайджан
- 3) Норвегия
- 4) Грузия

3. Задание 3 № 319

Какая из перечисленных природных зон занимает наибольшую площадь на территории России?

- 1) тайга
- 2) тундра
- 3) степи
- 4) широколиственные леса

4. Задание 4 № 320

Для многих стран актуальными являются наблюдение за вулканической активностью и работа служб по оповещению населения о предстоящих извержениях вулканов. Для какой из перечисленных стран актуально постоянное наблюдение за вулканической активностью?

- 1) Финляндия
- 2) Исландия
- 3) Египет
- 4) Австралия

5. Задание 5 № 321

В каком из перечисленных регионов России лесная и деревообрабатывающая промышленность является одной из ведущих отраслей хозяйства?

- 1) Архангельская область
- 2) Республика Дагестан
- 3) Воронежская область
- 4) Оренбургская область

6. Задание 6 № 322

Группа школьников из Мурманска хочет своими глазами увидеть необычную для них природу

дельты наиболее протяжённой европейской реки. Какой из перечисленных заповедников для этого им необходимо посетить?

- 1) Астраханский
- 2) Байкало-Ленский
- 3) Ильменский
- 4) Жигулевский

7. Задание 8 № 323

Какое утверждение, характеризующее миграцию населения между РФ и странами СНГ в 2009–2010 гг., верно?

**Международная миграция населения Российской Федерации в 2009–2010 гг.
(человек)**

	Число прибывших в РФ		Число выбывших из РФ	
	2009 г.	2010 г.	2009 г.	2010 г.
Всего: в том числе:	279 907	191 656	32 458	33 578
Украина	45 920	27 508	5737	6278
Армения	35 753	19 890	983	698
Таджикистан	27 028	18 188	610	694
Азербайджан	22 874	14 500	1130	1111

- 1) Число прибывших в Россию из Армении в 2009 г. превышало число прибывших в 2010 г.
- 2) Число прибывших в Россию из Таджикистана в 2010 г. превышало число прибывших в 2009 г.
- 3) Число выбывших из России в Украину в 2009 г. превышало число выбывших в 2010 г.
- 4) Число выбывших из России в Азербайджан в 2010 г. превышало число выбывших в 2009 г.

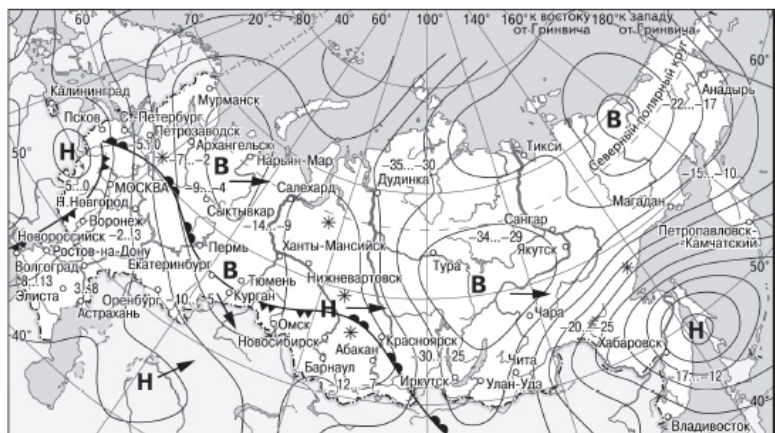
8. Задание 7 № 324

В каком из перечисленных регионов России средняя плотность населения наибольшая?

- 1) Мурманская область
- 2) Хабаровский край
- 3) Республика Татарстан
- 4) Тюменская область

9. Задание 10 № 325

Какой из перечисленных городов, показанных на карте, находится в зоне действия циклона?

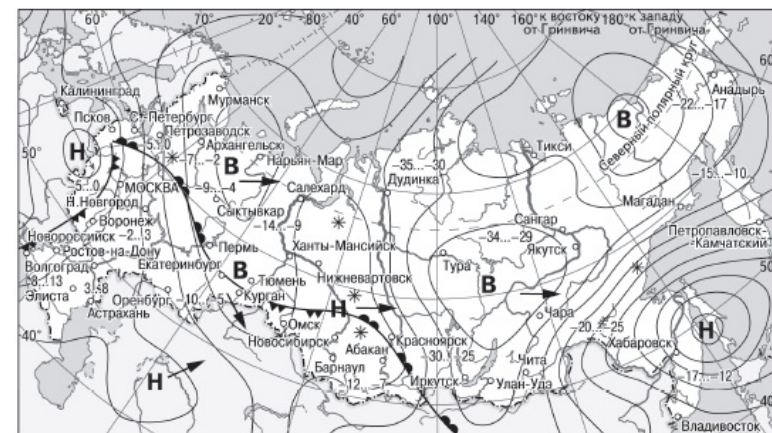


- | | |
|---|------------------------------------|
| В Область высокого атмосферного давления | Тёплый атмосферный фронт |
| Н Область низкого атмосферного давления | Холодный атмосферный фронт |
| Направление перемещения циклонов и антициклонов | -35...-30 Температура воздуха (°C) |
| | * Снег |
- решуогэ.ру

- 1) Мурманск
- 2) Нарьян-Мар
- 3) Хабаровск
- 4) Якутск

10. Задание 11 № 326

Карта погоды составлена на 7 декабря. В каком из показанных на карте городов на следующий день наиболее вероятно существенное потепление?



- | | |
|---|------------------------------------|
| В Область высокого атмосферного давления | Тёплый атмосферный фронт |
| Н Область низкого атмосферного давления | Холодный атмосферный фронт |
| Направление перемещения циклонов и антициклонов | -35...-30 Температура воздуха (°C) |
| | * Снег |
- решуогэ.ру

- 1) Воронеж
- 2) Красноярск
- 3) Новороссийск
- 4) Нижневартовск

11. Задание 12 № 327

Какой из перечисленных видов природных ресурсов относится к исчерпаемым возобновимым?

- 1) каменный уголь
- 2) медные руды
- 3) энергия ветра
- 4) лесные ресурсы

12. Задание 13 № 328

В каком из высказываний содержится информация о воспроизводстве населения?

- 1) В 2010 г. соотношение горожан и сельских жителей в общей численности населения России составляло 74% и 26% соответственно.
- 2) По итогам Всероссийской переписи населения 2010 г. средний возраст жителей страны составлял 39 лет.
- 3) По итогам Всероссийской переписи населения 2010 г. численность женщин в России превышала численность мужчин на 10,8 млн человек.
- 4) В 2009 г. в России родилось 1761,7 тыс. человек, а умерло 2010,5 тыс. человек.

13. Задание 16 № 329

На каком из перечисленных островов имеются действующие вулканы, у подножья которых также

много селений, где жители занимаются земледелием?


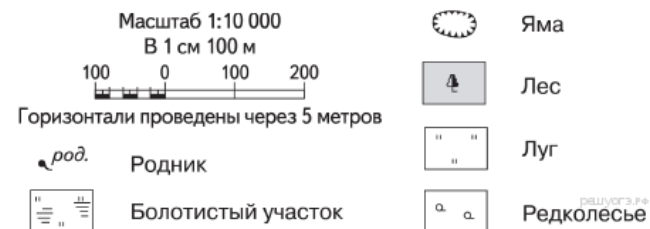
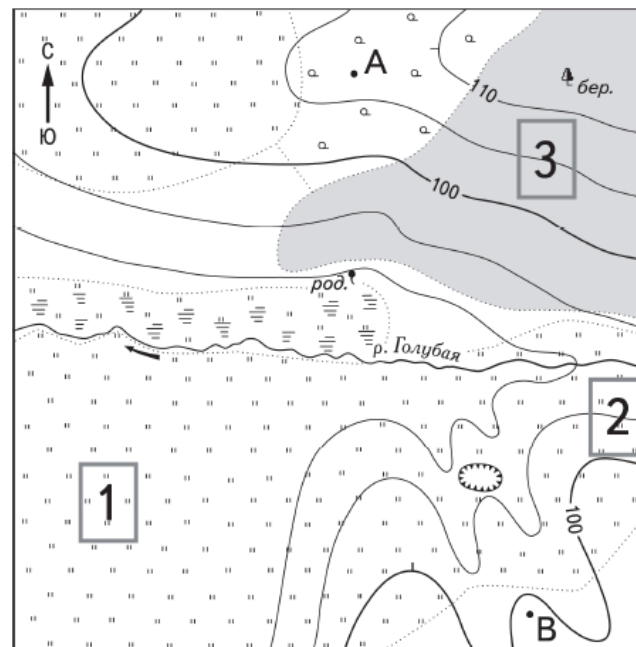
- 1) Мадагаскар
- 2) Ява
- 3) Ирландия
- 4) Шри-Ланка

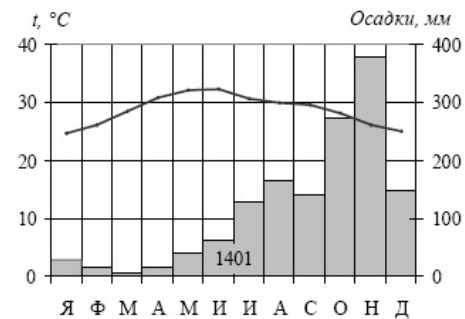
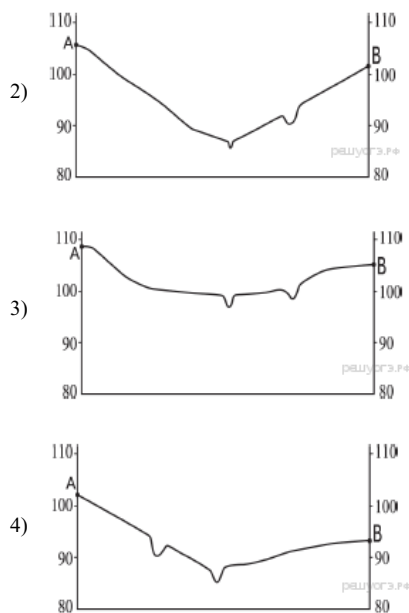
В ответе укажите номера верных вариантов без пробелов и запятых.

Этна — самый крупный действующий вулкан в Европе. За активностью Этны внимательно наблюдают геофизики, вулканологи. Этна просыпается едва ли не каждый год, но крупные извержения случаются на Сицилии раз в 150 лет, и каждый раз огненная лава покрывает одну из деревень на склоне. Несмотря на опасность, люди продолжают селиться рядом с Этной.

14. Задание 21 № 330

На рисунках представлены варианты профиля рельефа местности, построенные на основе карты по линии А—В разными учащимися. Какой из профилей построен верно?





15. Задание 22 № 331

Карты какого географического района России необходимо выбрать, чтобы более детально изучить регион, в котором расположена Липецкая область?

- 1) Поволжья
- 2) Европейского Юга
- 3) Урала
- 4) Центральной России

Липецкая область — один из лидеров в России по производству сахара. В 2012 г. началась модернизация предприятий отрасли, из-за которой объёмы производства сахара составили всего 410,5 тыс. т. После её завершения планируется превзойти уровень 2011 г. — 634 тыс. т.

16. Задание 27 № 332

Проанализируйте климатограмму и определите, какой буквой на карте обозначен пункт, характеристики климата которого отражены в климатограмме.

- 1) А
- 2) В
- 3) С
- 4) Д

17. Задание 28 № 333

Какую из изученных на уроках географии закономерностей подтверждают собранные данные?

- 1) Продолжительность дня в летнее время больше, чем продолжительность ночи.
- 2) Температура воздуха изменяется в течение суток.
- 3) Высота Солнца над горизонтом уменьшается при движении от экватора к полюсам.
- 4) В день осеннего равноденствия продолжительность светового дня равна продолжительности ночи.

Школьники из нескольких населённых пунктов России обменялись данными, полученными на местных метеостанциях 13 сентября 2012 г. Собранные ими данные представлены в следующей таблице.

Пункт наблюдения	Географические координаты пункта наблюдения	Высота Солнца над горизонтом	Температура воздуха, °С	Время наблюдения (московское)
Элиста	46° с.ш. 44° в.д.	44°	+21	13 ч 56 мин.
Тамбов	53° с.ш. 42° в.д.	37°	+15	13 ч 48 мин.
Нижний Новгород	56° с.ш. 44° в.д.	34°	+12	13 ч 56 мин.
Любань	59° с.ш. 31° в.д.	31°	+14	13 ч 04 мин.

18. Задание 29 № 334

В каком из перечисленных городов 22 июня продолжительность светового дня будет наименьшей?

- 1) Элиста
- 2) Тамбов
- 3) Нижний Новгород
- 4) Любань

19. Задание 9 № 335

Определите миграционный прирост (всего) населения РФ в 2010 г. Ответ запишите в виде числа.

Международная миграция населения Российской Федерации в 2009–2010 гг. (человек)

	Число прибывших в РФ		Число выбывших из РФ	
	2009 г.	2010 г.	2009 г.	2010 г.
Всего:	279 907	191 656	32 458	33 578
в том числе:				
Украина	45 920	27 508	5737	6278
Армения	35 753	19 890	983	698
Таджикистан	27 028	18 188	610	694
Азербайджан	22 874	14 500	1130	1111

20. Задание 17 № 336

Расположите перечисленные ниже города в порядке увеличения в них численности населения. Запишите в ответ получившуюся последовательность букв.

- А) Братск
- Б) Хабаровск
- В) Самара

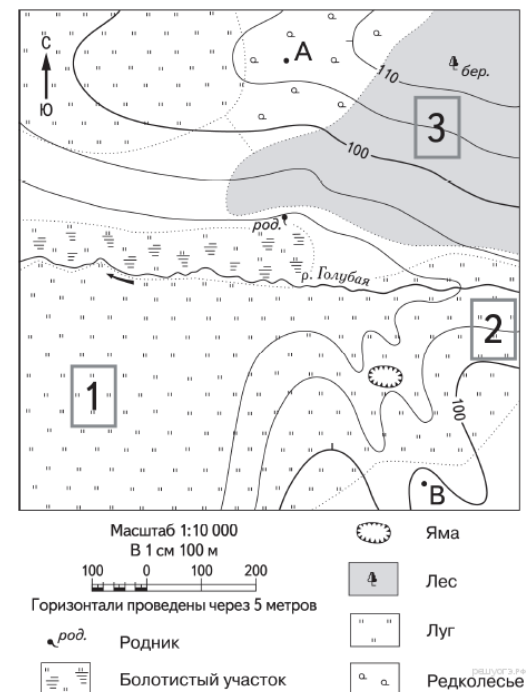
21. Задание 14 № 337

Определите, какая горная вершина имеет географические координаты 28° с.ш. 87° в.д.

22. Задание 18 № 338

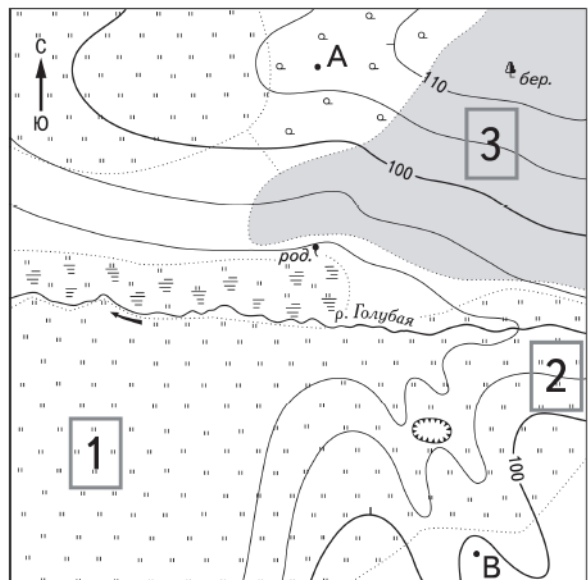
Определите по карте расстояние на местности по прямой от точки А до родника. Измерение проводите между точкой и центром соответствующего условного знака. Полученный результат округлите

до десятков метров. Ответ запишите в виде числа.



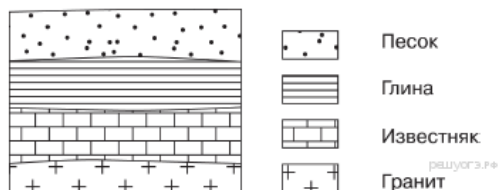
23. Задание 19 № 339

Определите по карте, в каком направлении от точки А находится родник.



24. Задание 26 № 340

Во время экскурсии учащиеся сделали схематическую зарисовку залегания горных пород на обрыве в карьере.



Расположите показанные на рисунке слои горных пород в порядке увеличения их возраста (от самого молодого до самого древнего). Запишите в ответ получившуюся последовательность букв.

- А) гранит
- Б) песок
- В) известняк

25. Задание 25 № 341

Туристические фирмы разных стран разработали слоганы (рекламные лозунги) для привлечения туристов в свои страны. Установите соответствие между слоганом и страной.

СЛОГАН	СТРАНА
А) В нашей стране Вас ждут ласковое Средиземноморье, многообразие подводного мира и экзотика Красного моря!	1) Австралия
Б) Великолепные пляжи, пышная тропическая природа, величественные вулканы — всё это превращает нашу страну в мечту любого туриста!	2) Чехия
	3) Мексика
	4) Египет

Запишите в ответ цифры, расположив их в порядке, соответствующем буквам:

А	Б

26. Задание 24 № 342

Расположите регионы России в той последовательности, в которой их жители встречают Новый год. Запишите в ответ получившуюся последовательность букв.

- А) Хабаровский край
- Б) Ненецкий АО
- В) Красноярский край

27. Задание 30 № 343

Определите страну по её краткому описанию.

Особенностями географического положения этой страны являются наличие границы с Россией и отсутствие выхода к морю. Большая часть территории расположена на высоте свыше 1000 м над уровнем моря, некоторые горные хребты достигают 4000 м и выше. Климат резко континентальный, с максимальными амплитудами суточных и годовых температур. В некоторых районах распространена многолетняя мерзлота. Основной ландшафт — сухие степи, примерно четверть территории занята пустыней. Средняя плотность населения — около 2 человек на км². Большинство верующих исповедуют буддизм.

28. Задание 15 № 344

Этна — самый крупный действующий вулкан в Европе. За активностью Этны внимательно наблюдают геофизики, вулканологи. Этна просыпается едва ли не каждый год, но крупные извержения случаются на Сицилии раз в 150 лет, и каждый раз огненная лава покрывает одну из деревень на склоне. Несмотря на опасность, люди продолжают селиться рядом с Этной.

Какие особенности природных условий заставляют людей, несмотря на опасность, селиться рядом с Этной и заниматься земледелием? Укажите две особенности.

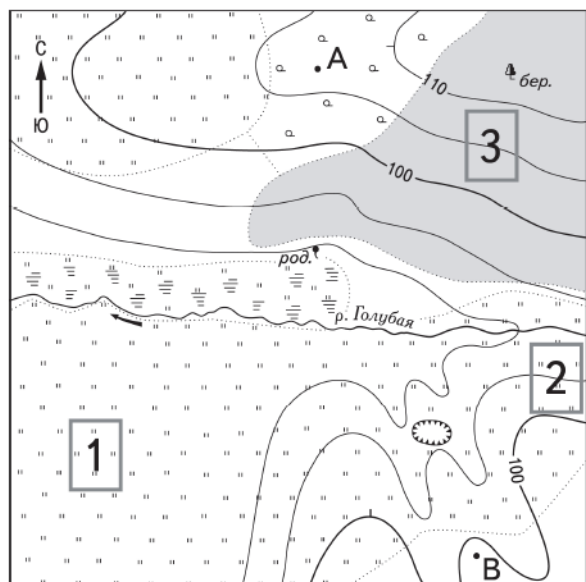
Критерии проверки:

Критерии оценивания выполнения задания	Баллы
1. Вулканическая лава богата минеральными веществами. За счет этого остывшая лава очень быстро покрывается растениями. Образуется плодородная почва, дающая богатый урожай.	2
2. Этна расположен в области благоприятного субтропического климата.	

Ответ включает оба названных выше элемента	
Ответ включает один (любой) из названных выше элементов	1
Все ответы, которые не соответствуют вышеуказанным критериям выставления оценок в 1 и 2 балла	0
Максимальный балл	2

29. Задание 20 № 345

Школьники выбирают место для катания на санках. Оцените, какой из участков, обозначенных на карте цифрами 1, 2 и 3, больше всего подходит для этого. Для обоснования своего ответа приведите два довода.



Критерии проверки:

Критерии оценивания выполнения задания	Баллы
В ответе говорится о том, что наиболее подходящим является участок 2, и приведено два обоснования, из которых очевидно, что учащийся умеет определять крутизну склонов по расстоянию между горизонталями и читать условные знаки, обозначающие характер	2

<p>поверхности.</p> <p>В ответе говорится о том, что наиболее подходящим является участок 2, и приведено одно обоснование, из которого очевидно, что учащийся умеет определять крутизну склонов по расстоянию между горизонталями или читать условные знаки, обозначающие характер поверхности.</p> <p>ИЛИ</p> <p>В ответе говорится о том, что наиболее подходящим является участок 3, и приведено одно обоснование, из которого очевидно, что учащийся умеет определять крутизну склонов по расстоянию между горизонталями.</p> <p>Примеры ответов:</p> <ol style="list-style-type: none"> 1. Участок 2, потому что там склон с большим уклоном. 2. Участок 2, поскольку там нет деревьев, как на участке 3. 3. Участок 3, потому что там есть склон 	1
<p>В ответе назван участок 2 без обоснования или с неверным обоснованием.</p> <p>ИЛИ</p> <p>В ответе назван любой участок и приводится обоснование, из которого не следует, что учащийся умеет определять крутизну склонов по расстоянию между горизонталями или читать условные знаки, обозначающие характер поверхности.</p> <p>Примеры ответов:</p> <ol style="list-style-type: none"> 1. Участок 2. 2. Участок 1, так как там крутая горка 	0
Максимальный балл	2

30. Задание 23 № 346

Какая особенность сельского хозяйства Липецкой области способствует бесперебойному снабжению сахарных заводов сырьём?

Критерии проверки:

Критерии оценивания выполнения задания	Баллы
Ответ включает названные элементы	1
Ответ не включает названные элементы	0
Максимальный балл	1

Ключ

№ п/п	№ задания	Ответ
1	317	2
2	318	1
3	319	1
4	320	2
5	321	1
6	322	1
7	323	1
8	324	3
9	325	3
10	326	2
11	327	4
12	328	4
13	329	2
14	330	2
15	331	4
16	332	3
17	333	3
18	334	1
19	335	158078
20	336	АБВ
		Эверест
21	337	Джомолунгма
22	338	280 290 300
		Ю в южном
23	339	Юг
24	340	БВА
25	341	43
26	342	АВБ
27	343	Монголия