

Вариант № 4**ГИА по географии 31.05.2013. Основная волна. Вариант 1304.****1. Задание 1 № 91**

На каком из перечисленных островов имеются действующие вулканы?

- 1) Мадагаскар
- 2) Шри-Ланка
- 3) Исландия
- 4) Сахалин

2. Задание 2 № 92

Какие из перечисленных островов входят в состав территории Российской Федерации?

- 1) Алеутские острова
- 2) архипелаг Шпицберген
- 3) Балеарские острова
- 4) архипелаг Земля Франца-Иосифа

3. Задание 3 № 93

В каком из перечисленных регионов России средняя температура воздуха в июле самая высокая?

- 1) Астраханская область
- 2) Пермский край
- 3) Чувашская Республика
- 4) Приморский край

4. Задание 4 № 94

Многолетняя мерзлота оказывает влияние на хозяйственную деятельность человека: добычу полезных ископаемых, строительство дорог и зданий. В каком из перечисленных регионов России необходимо учитывать последствия оттаивания многолетней мерзлоты?

- 1) Самарская область
- 2) Красноярский край
- 3) Ростовская область
- 4) Чувашская Республика

5. Задание 1 № 95

Какой из перечисленных народов относится к числу коренных народов Европейского Севера России?

- 1) коми
- 2) башкиры
- 3) чуваша
- 4) удмурты

6. Задание 6 № 96

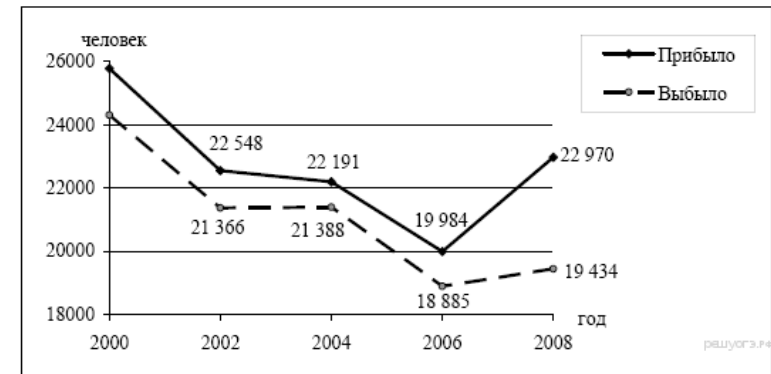
Группа школьников из Оренбурга хочет своими глазами увидеть необычную для них природу тундры. Какой из перечисленных заповедников для этого им необходимо посетить?

- 1) Гыданский
- 2) Окский
- 3) Южно-Уральский
- 4) Мордовский

7. Задание 8 № 97

За какой период времени в Тверской области произошло сокращение числа прибывших и увеличение числа выбывших?

Общие итоги миграции населения в Тверской области в 2000–2008 гг.
(человек)



- 1) 2000–2002 гг.
- 2) 2002–2004 гг.
- 3) 2004–2006 гг.
- 4) 2006–2008 гг.

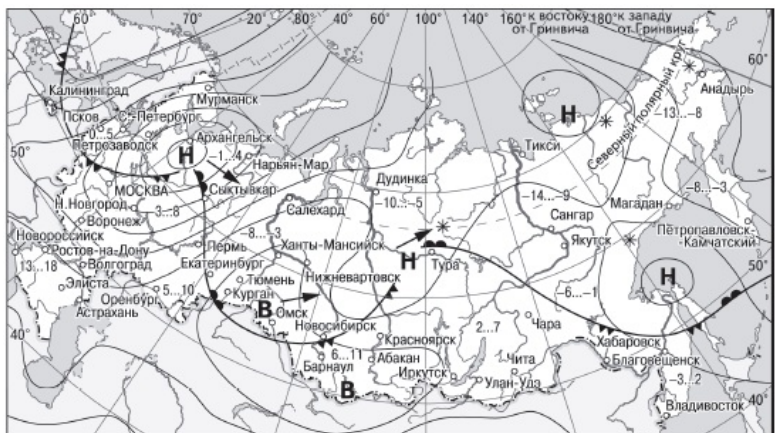
8. Задание 7 № 98

В каком из перечисленных регионов России средняя плотность населения наибольшая?

- 1) Красноярский край
- 2) Республика Коми
- 3) Ростовская область
- 4) Хабаровский край

9. Задание 10 № 99

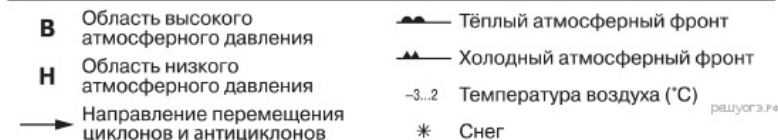
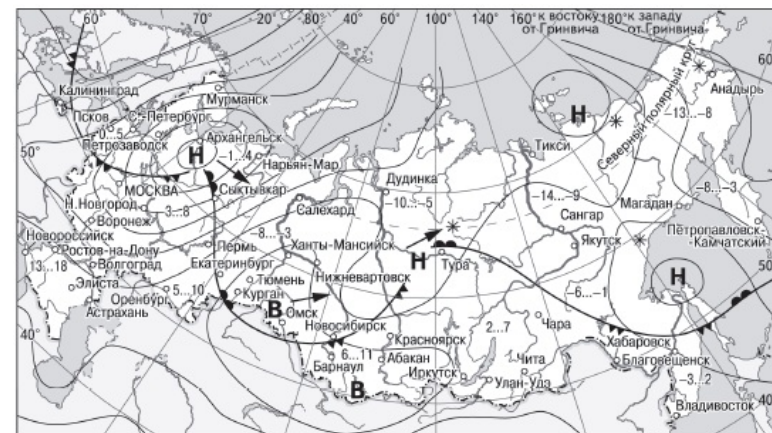
Какой из перечисленных городов, показанных на карте, находится в зоне действия циклона?



- 1) Барнаул
- 2) Курган
- 3) Нарьян-Мар
- 4) Новосибирск

10. Задание 11 № 100

Карта погоды составлена на 18 апреля. В каком из показанных на карте городов на следующий день наиболее вероятно существенное потепление?



- 1) Калининград
- 2) Курган
- 3) Нижний Новгород
- 4) Благовещенск

11. Задание 12 № 101

Примером рационального природопользования является

- 1) извлечение одного компонента при переработке полиметаллических руд
- 2) распашка земель вдоль склонов
- 3) избыточное орошение в засушливых районах
- 4) создание полей защитных лесополос в степной зоне

12. Задание 13 № 102

В каком из высказываний содержится информация о воспроизводстве населения?

- 1) По итогам Всероссийской переписи населения 2010 г. численность городского населения в стране составляла 105,3 млн человек (74%), около трети горожан проживало в 12 городах-миллионерах.
- 2) В 2009 г. средняя плотность населения Северо-Кавказского федерального округа была одна из самых высоких в стране: 54 человека на 1 м².
- 3) Число родившихся в РФ в январе — октябре 2012 г. выросло до 1586,9 тыс. человек против 1482,8 тыс. человек в январе — октябре 2011 г. При этом число умерших в январе — октябре 2012 г. сократилось до 1586,1 тыс. человек с 1610,2 тыс. человек годом ранее.
- 4) В 2009 г. в Москве было зарегистрировано 10,527 млн жителей, из них около 7 млн граждан трудоспособного возраста и 2,5 млн пенсионеров.

13. Задание 16 № 103

Тропические циклоны обладают огромной энергией и способны вызвать катастрофические разрушения. Для жителей какой из перечисленных стран тропические циклоны представляют наибольшую опасность?

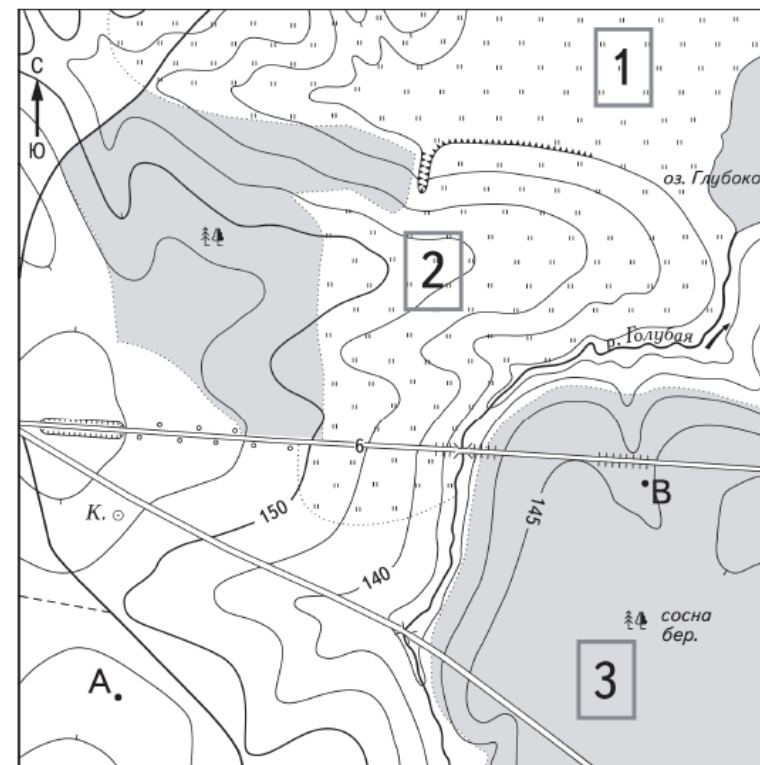
- | | |
|--------------|-----------|
| 1) Бангладеш | 2) Нигер |
| 3) Испания | 4) Турция |

В ответе укажите номера верных вариантов без пробелов и запятых.

В сентябре 2012 г. на одной из центральных улиц Владивостока на проспекте Красоты сошёл оползень. Камнями и землёй засыпало большую часть дорожного полотна. В результате инцидента никто не пострадал, но движение было закрыто. Причиной оползня стали сильные дожди, вызванные пришедшим в Приморье тропическим циклоном «Санба».

14. Задание 21 № 104

На рисунках представлены варианты профиля рельефа местности, построенные на основе карты по линии А—В разными учащимися. Какой из профилей построен верно?





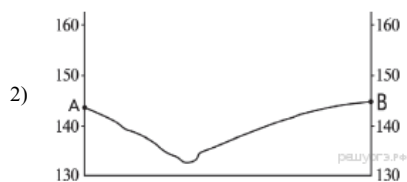
Масштаб 1:10 000
В 1 см 100 м



Горизонталы проведены через 5 метров

- | | | | | | |
|--|------------------|--|-----|--|---------|
| | Шоссе | | Луг | | Мост |
| | Грунтовая дорога | | Лес | | Колодец |
| | | | | | Обрыв |





15. Задание 22 № 105

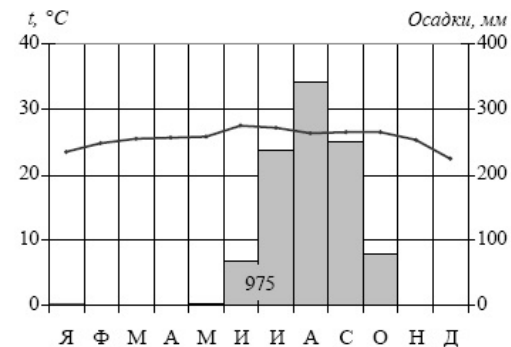
Карты какого географического района России необходимо выбрать, чтобы определить местоположение г. Таганрога?

- 1) Центральной России
- 2) Урала
- 3) Поволжья
- 4) Европейского Юга

Таганрогский автомобильный завод (ТагАЗ) — одно из крупнейших предприятий отрасли в России. Общий объём инвестиций, вложенных в строительство и оснащение завода, на текущий момент превышает 320 млн долларов. С момента запуска завода в 1998 г. на ТагАЗе накоплен богатый опыт производства легковых и коммерческих автомобилей. На ТагАЗе представлен полный цикл производств, включающий сварку, окраску кузовов и последующую сборку. Машинокомплекты поступают из Китая.

16. Задание 27 № 106

Проанализируйте климатограмму и определите, какой буквой на карте обозначен пункт, характеристики климата которого отражены в климатограмме.



- 1) А
- 2) В
- 3) С
- 4) D

17. Задание 28 № 107

Учащиеся проанализировали собранные данные в целях выявления зависимостей между полученными характеристиками. У всех учащихся выводы получились разные. Кто из учащихся сделал верный вывод на основе представленных данных?

- 1) Мария: «Среднесуточная температура воздуха повышается при движении с востока на запад».
- 2) Иван: «Чем больше продолжительность дня, тем выше среднесуточная температура воздуха».
- 3) Фёдор: «Продолжительность дня увеличивается при движении с севера на юг».
- 4) Светлана: «Высота Солнца над горизонтом увеличивается при движении с востока на запад».

Школьники из нескольких населённых пунктов России обменялись данными, полученными на местных метеостанциях 22 января 2013 г. Собранные ими данные представлены в следующей таблице.

Название пункта	Географические координаты	Продолжительность дня	Высота Солнца над горизонтом в полдень	Среднесуточная температура воздуха
Вологда	59° с.ш. 39° в.д.	7 ч 22 мин.	11,1°	-18 °С
Уфа	55° с.ш. 56° в.д.	8 ч 13 мин.	15,8°	-6 °С
Рязань	55° с.ш. 39° в.д.	8 ч 13 мин.	15,8°	-16 °С
Воронеж	51° с.ш. 39° в.д.	8 ч 38 мин.	18,7°	-8 °С

18. Задание 29 № 108

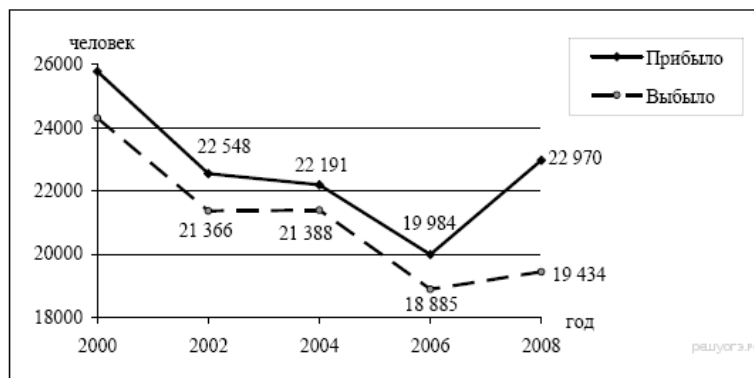
В каком из перечисленных городов 21 марта Солнце раньше всего по московскому времени поднимется над горизонтом?

- 1) Вологда
- 2) Уфа
- 3) Рязань
- 4) Воронеж

19. Задание 9 № 109

Определите миграционный прирост населения Тверской области в 2008 г. Ответ запишите в виде числа.

Общие итоги миграции населения в Тверской области в 2000–2008 гг. (человек)



20. Задание 17 № 110

Расположите перечисленные ниже города в порядке увеличения в них численности населения. Запишите в ответ получившуюся последовательность букв.

- А) Уфа
- Б) Хабаровск

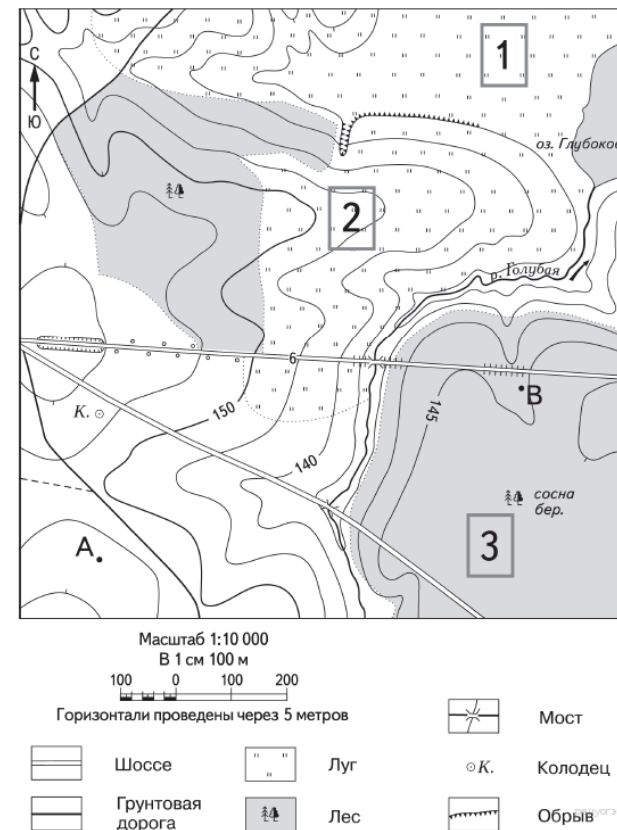
В) Йошкар-Ола

21. Задание 14 № 111

Определите, какой город имеет географические координаты 19° с.ш. 73° в.д.

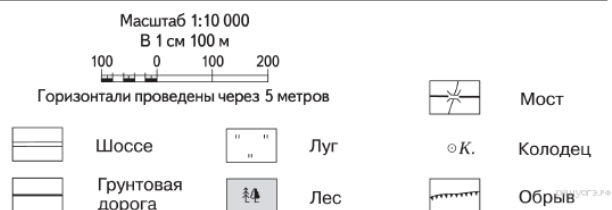
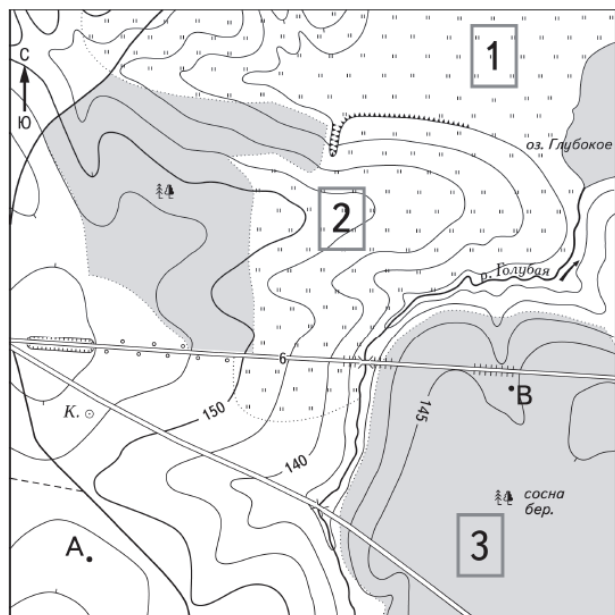
22. Задание 18 № 112

Определите по карте расстояние на местности по прямой от точки А до колодца. Измерение проводите между точкой и центром соответствующего условного знака. Полученный результат округлите до десятков метров. Ответ запишите в виде числа.



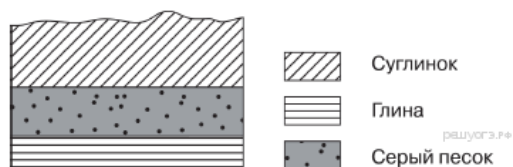
23. Задание 19 № 113

Определите по карте, в каком направлении от точки А находится колодец.



24. Задание 26 № 114

Во время экскурсии учащиеся сделали схематическую зарисовку залегания горных пород на обрыве у берега реки.



Расположите показанные на рисунке слои горных пород в порядке увеличения их возраста (от самого молодого до самого древнего). Запишите в ответ получившуюся последовательность букв.

- А) серый песок
- Б) глина
- В) суглинок

25. Задание 25 № 115

Туристические фирмы разных стран разработали слоганы (рекламные лозунги) для привлечения туристов в свои страны. Установите соответствие между слоганом и страной.

СЛОГАН	СТРАНА
А) В «стране тысячи улыбок» вы увидите шоу слонов в тропическом парке и знаменитый буддийский храм!	1) Таиланд
Б) Путешествуя по фьордам, откройте для себя всё самое яркое в нашей стране!	2) Алжир
	3) Норвегия
	4) Египет

Запишите в ответ цифры, расположив их в порядке, соответствующем буквам:

А	Б

26. Задание 24 № 116

Расположите регионы России в той последовательности, в которой их жители встречают Новый год. Запишите в ответ получившуюся последовательность букв.

- А) Свердловская область
- Б) Амурская область
- В) Новгородская область

27. Задание 30 № 117

Определите город по его краткому описанию.

Этот город был основан на пересечении древнейших торговых путей между Европой и Азией. Расположен в дельте крупнейшей реки Европейской части России. В городе действуют предприятия топливно-энергетического комплекса, судостроения и пищевой промышленности. Город является крупным транспортным узлом. Развиты все виды транспорта: морской, речной, железнодорожный, автомобильный и авиационный.

28. Задание 15 № 118

В сентябре 2012 г. на одной из центральных улиц Владивостока на проспекте Красоты сошёл оползень. Камнями и землёй засыпало большую часть дорожного полотна. В результате инцидента никто не пострадал, но движение было закрыто. Причиной оползня стали сильные дожди, вызванные пришедшим в Приморье тропическим циклоном «Санба».

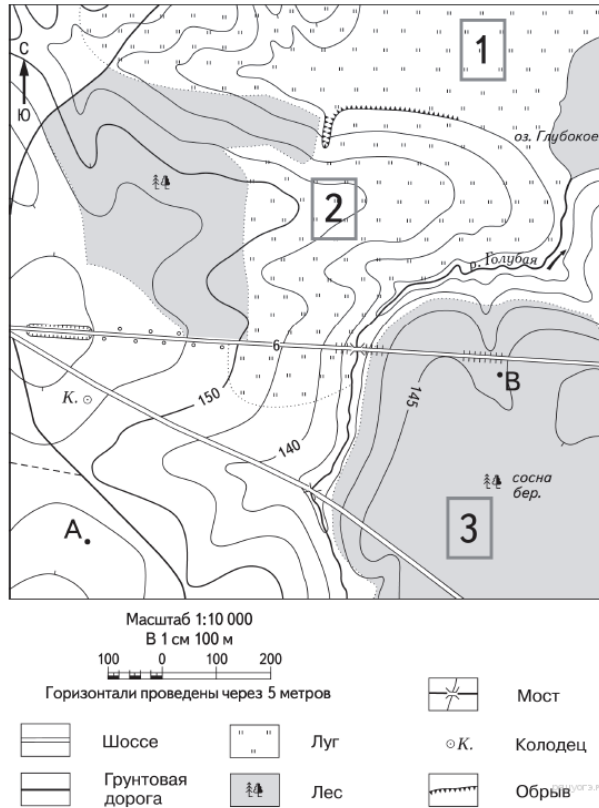
Объясните, почему сильные дожди могли стать причиной оползня.

Критерии проверки:

Критерии оценивания выполнения задания	Баллы
Ответ включает оба названных выше элемента	2
Ответ включает один (любой) из названных выше элементов	1
Все ответы, которые не соответствуют вышеуказанным критериям выставления оценок в 1 и 2 балла	0
Максимальный балл	2

29. Задание 20 № 119

Школьники выбирают место для игры в футбол. Оцените, какой из участков, обозначенных на карте цифрами 1, 2 и 3, больше всего подходит для этого. Для обоснования своего ответа приведите два довода.



Критерии проверки:

Критерии оценивания выполнения задания	Баллы
Ответ включает оба названных выше элемента	2
Ответ включает один (любой) из названных выше элементов	1
Все ответы, которые не соответствуют вышеуказанным критериям выставления оценок в 1 и 2 балла	0
<i>Максимальный балл</i>	2

30. Задание 23 № 120

Какая особенность ЭГП г. Таганрога кроме близости потребителей продукции способствовала

выбору этого города для создания автомобильного завода?

Критерии проверки:

Критерии оценивания выполнения задания	Баллы
Ответ включает названные элементы	1
Ответ не включает названные элементы	0
<i>Максимальный балл</i>	1

Ключ

№ п/п	№ задания	Ответ
1	91	3
2	92	4
3	93	1
4	94	2
5	95	1
6	96	1
7	97	2
8	98	3
9	99	3
10	100	2
11	101	4
12	102	3
13	103	1
14	104	1
15	105	4
16	106	3
17	107	3
18	108	2
19	109	3536
20	110	ВБА
		Мумбай
		Мумбай
21	111	Бомбей
22	112	240 250 260
		в северном
23	113	Север С
24	114	ВАБ
25	115	13
26	116	БАВ
27	117	Астрахань