

**Вариант № 7****ГИА по географии 31.05.2013. Основная волна. Урал. Вариант 1305.****1. Задание 1 № 181**

Какой из перечисленных городов является столицей государства?

- 1) Нью-Йорк
- 2) Монреаль
- 3) Сидней
- 4) Вашингтон

**2. Задание 2 № 182**

С какой из перечисленных стран Россия имеет сухопутную границу?

- 1) Болгария
- 2) Польша
- 3) Молдавия
- 4) Турция

**3. Задание 3 № 183**

В каком из перечисленных городов России среднегодовое количество атмосферных осадков наибольшее?

- 1) Сочи
- 2) Якутск
- 3) Чита
- 4) Самара

**4. Задание 4 № 184**

Глобальные изменения климата могут привести к таянию покровных ледников и повышению вследствие этого уровня Мирового океана. Какой из перечисленных городов России может в наибольшей степени пострадать в случае такого развития событий?

- 1) Смоленск
- 2) Екатеринбург
- 3) Архангельск
- 4) Новосибирск

**5. Задание 5 № 185**

Какой из перечисленных городов России является крупным центром алюминиевой промышленности?

- 1) Ставрополь
- 2) Тамбов
- 3) Красноярск
- 4) Рязань

**6. Задание 6 № 186**

Группа туристов из Японии хочет своими глазами увидеть лежбище морских котиков. Какой из перечисленных заповедников для этого им необходимо посетить?

- 1) Командорский
- 2) Ильменский
- 3) Сихотэ-Алинский
- 4) Тебердинский

**7. Задание 8 № 187**

В каком году в Алтайском крае наблюдалось наименьшее превышение смертности над рождаемостью?

**Изменение численности населения Алтайского края в 2007—2010 гг.**

Показатель	2007 г.	2008 г.	2009 г.	2010 г.
Общий прирост населения за год, человек	-14 830	-11 702	-6062	-9803
Естественный прирост населения за год, человек	-9039	-6756	-4868	-5516

- 1) 2007 г.
- 2) 2008 г.
- 3) 2009 г.
- 4) 2010 г.

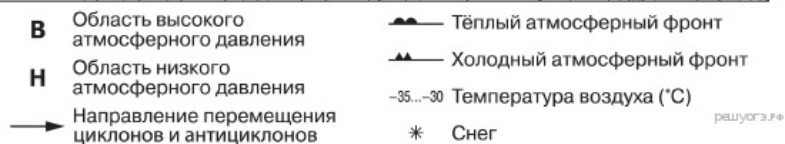
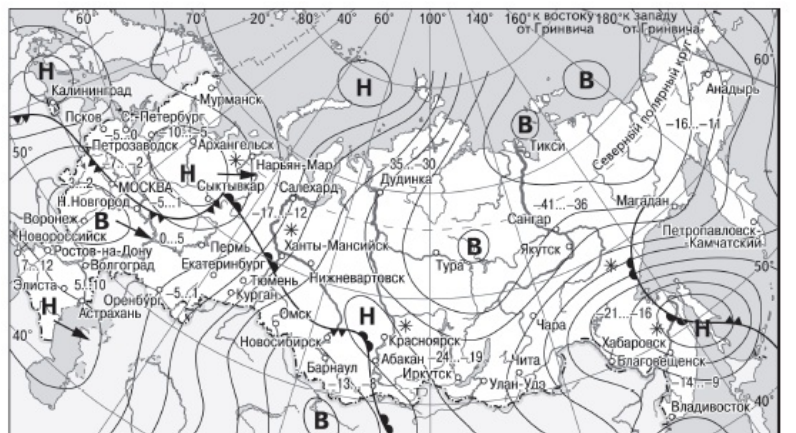
**8. Задание 7 № 188**

В каком из перечисленных регионов России средняя плотность населения наибольшая?

- 1) Красноярский край
- 2) Хабаровский край
- 3) Самарская область
- 4) Республика Бурятия

**9. Задание 10 № 189**

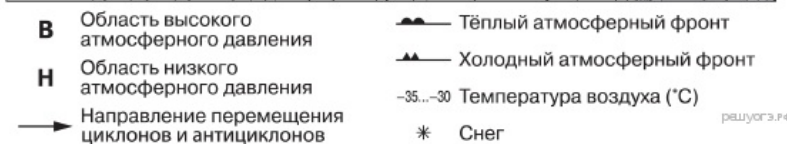
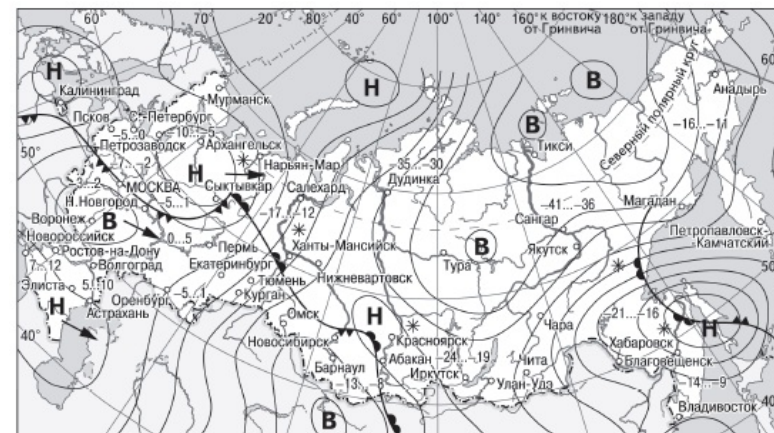
Какой из перечисленных городов, показанных на карте, находится в зоне действия антициклона?



- 1) Архангельск
- 2) Воронеж
- 3) Красноярск
- 4) Улан-Удэ

#### 10. Задание 11 № 190

Карта погоды составлена на 5 декабря. В каком из показанных на карте городов на следующий день наиболее вероятно существенное похолодание?



- 1) Абакан
- 2) Нижний Новгород
- 3) Ханты-Мансийск
- 4) Элиста

#### 11. Задание 12 № 191

Примером нерационального природопользования является

- 1) рекультивация земель в районах добычи угля
- 2) комплексное использование добываемого сырья
- 3) заготовка древесины с последующими посадками леса
- 4) сплав леса по рекам отдельными брёвнами

#### 12. Задание 13 № 192

В каком из высказываний содержится информация о миграциях населения?

- 1) По данным Всероссийской переписи населения 2010 г., численность постоянного населения России составляла 142,9 млн человек.
- 2) В 2010 г. в России из городов в сельские населённые пункты прибыло 546 582 человека, что на 62 511 человек меньше, чем в 2009 г.
- 3) По данным Всероссийской переписи населения 2010 г., численность женщин превышала численность мужчин на 10,8 млн человек, или на 16,2%.
- 4) В 2010 г. население России проживало в 2386 городских населённых пунктах (городах и посёлках городского типа) и 134 тыс. сельских населённых пунктах.

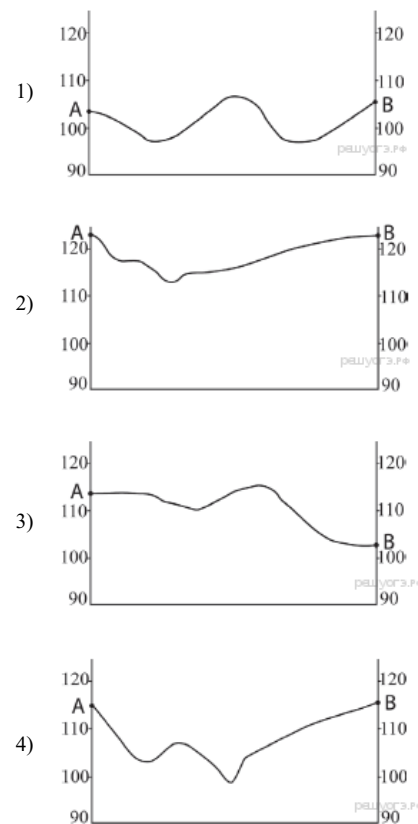
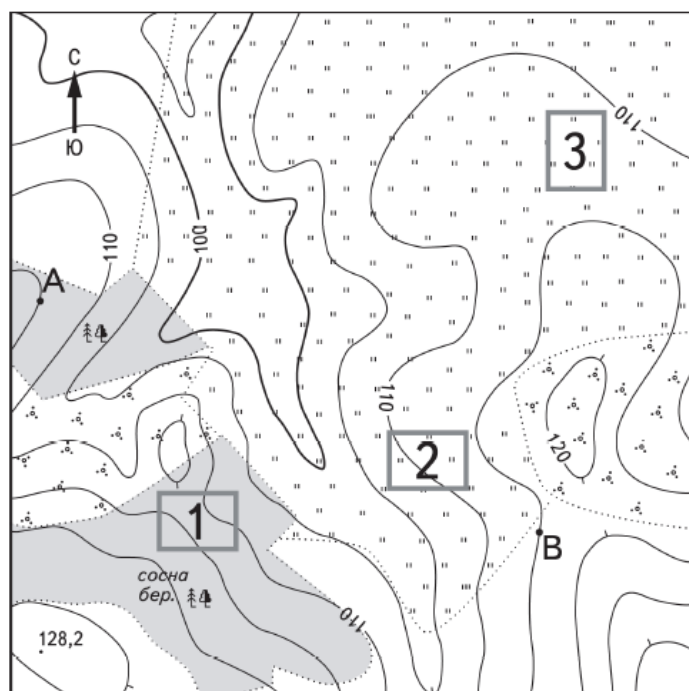
#### 13. Задание 13 № 193

В каком из высказываний содержится информация о миграциях населения?

- 1) По данным Всероссийской переписи населения 2010 г., численность постоянного населения России составляла 142,9 млн человек.
- 2) В 2010 г. в России из городов в сельские населённые пункты прибыло 546 582 человека, что на 62 511 человек меньше, чем в 2009 г.
- 3) По данным Всероссийской переписи населения 2010 г., численность женщин превышала численность мужчин на 10,8 млн человек, или на 16,2%.
- 4) В 2010 г. население России проживало в 2386 городских населённых пунктах (городах и посёлках городского типа) и 134 тыс. сельских населённых пунктах.

#### 14. Задание 21 № 194

На рисунках представлены варианты профиля рельефа местности, построенные на основе карты по линии А—В разными учащимися. Какой из профилей построен верно?



#### 15. Задание 22 № 195

Карты какого географического района России необходимо выбрать, чтобы более детально изучить регион, в котором расположен г. Верхний Уфалей?

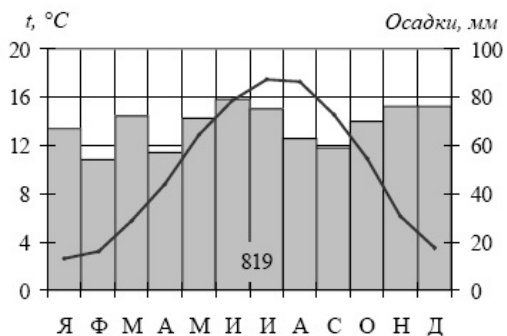
- 1) Поволжья
- 2) Западной Сибири
- 3) Восточной Сибири
- 4) Урала

С 1970 г., после проведённой реконструкции, Уфалейский завод металлоизделий (г. Верхний Уфалей Челябинской области) выпускает оборудование для всех производственных процессов в чёрной металлургии: коксохимического, агломерационного, доменного, сталеплавильного и прокатного. Кроме того, завод выпускает стальное и чугунное литьё, поковки, штамповки, металлоконструкции и др. Завод поставляет свою продукцию практически на все крупные металлургические предприятия России, а также осуществляет поставки во Францию, в Турцию, Италию, Великобританию, Бельгию, Германию и страны

ближнего зарубежья.

**16. Задание 27 № 196**

Проанализируйте климатограмму и определите, какой буквой на карте обозначен пункт, характеристики климата которого отражены в климатограмме.



- 1) А
- 2) В
- 3) С
- 4) D

**17. Задание 28 № 197**

Учащиеся проанализировали собранные данные в целях выявления зависимости между особенностями климата и географическим положением пункта. У всех учащихся выводы получились разные. Кто из учащихся сделал верный вывод на основе представленных данных?

- 1) Дмитрий: «Чем восточнее расположен пункт, тем зимы становятся холоднее».
- 2) Глеб: «Чем восточнее расположен пункт, тем лето становится теплее».
- 3) Елена: «На параллели 50° с.ш. максимум атмосферных осадков выпадает в летнее время».
- 4) Наталья: «Чем ближе к Тихому океану, тем количество атмосферных осадков меньше».

Школьники нашли в Интернете климатические данные для пунктов, расположенных в Евразии на одной параллели, но на разных меридианах. Данные получены на местных метеостанциях в результате многолетних наблюдений. Собранные школьниками данные представлены в следующей таблице.

Пункт наблюдения	Географические координаты пункта наблюдения	Средняя температура воздуха, °С		Атмосферные осадки, норма, мм		Среднегодовое количество атмосферных осадков, мм
		январь	июль	январь	июль	
Александров Гай	50° с.ш. 48° в.д.	-11,1	+23,6	33	23	337
Семипалатинск	50° с.ш. 80° в.д.	-15,8	+21,7	15	34	264
Кяхта	50° с.ш. 106° в.д.	-21,6	+19,0	3	85	329
Благовещенск	50° с.ш. 127° в.д.	-23,8	+21,4	4	124	538

**18. Задание 29 № 198**

В каком из перечисленных населённых пунктов 23 сентября Солнце позже всего по московскому времени поднимется над горизонтом?

- 1) Александров Гай
- 2) Кяхта
- 3) Семипалатинск
- 4) Благовещенск

**19. Задание 9 № 199**

Определите миграционный прирост населения Алтайского края в 2010 г. Ответ запишите в виде числа.

Изменение численности населения Алтайского края в 2007–2010 гг.

Показатель	2007 г.	2008 г.	2009 г.	2010 г.
Общий прирост населения за год, человек	-14 830	-11 702	-6062	-9803
Естественный прирост населения за год, человек	-9039	-6756	-4868	-5516

**20. Задание 17 № 200**

Расположите перечисленные ниже города в порядке увеличения в них численности населения. Запишите в ответ получившуюся последовательность букв.

- А) Абакан
- Б) Самара

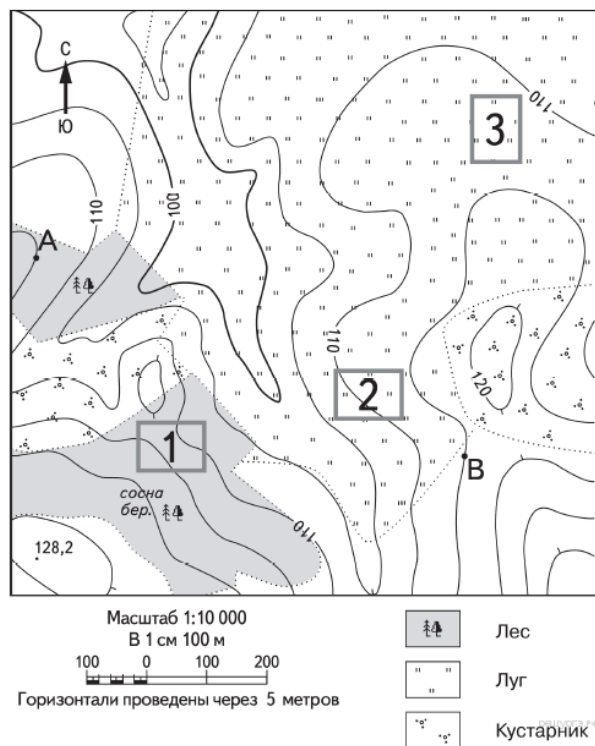
В) Хабаровск

21. Задание 14 № 201

Определите, какой город имеет географические координаты 22° с.ш. 88° в.д.

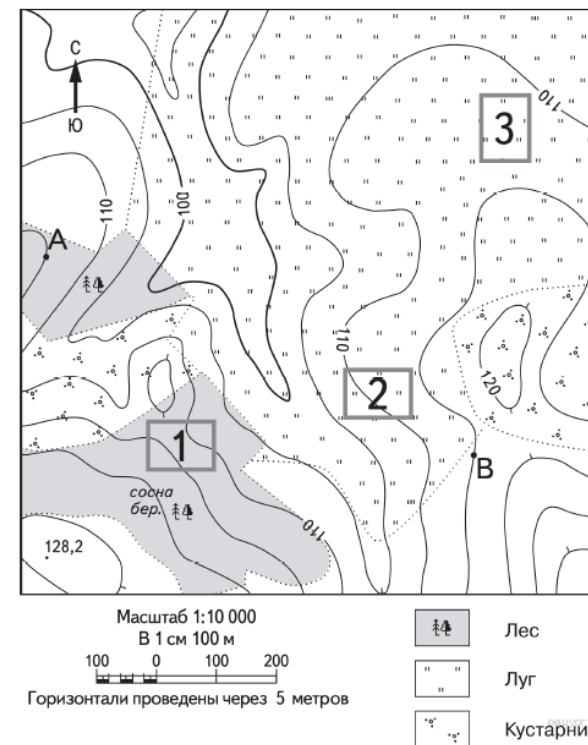
22. Задание 18 № 202

Определите по карте расстояние на местности по прямой от точки А до точки с высотой 128,2. Полученный результат округлите до десятков метров. Ответ запишите в виде числа.



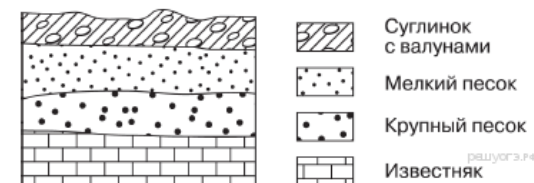
23. Задание 19 № 203

Определите по карте, в каком направлении от точки А находится точка с высотой 128,2.



24. Задание 26 № 204

Во время экскурсии учащиеся сделали схематическую зарисовку залегания горных пород на обрыве в карьере.



Расположите показанные на рисунке слои горных пород в порядке увеличения их возраста (от самого молодого до самого древнего). Запишите в ответ получившуюся последовательность букв.

- А) известняк
- Б) мелкий песок
- В) крупный песок

25. Задание 25 № 205

Туристические фирмы разных стран разработали слоганы (рекламные лозунги) для привлечения туристов в свои страны. Установите соответствие между слоганом и страной.

## СЛОГАН

- А) Добро пожаловать в новогоднюю зимнюю сказку с белоснежными просторами, таинственными спящими лесами, романтической полярной ночью и завораживающим Северным сиянием!  
 Б) Отдых в нашей стране — это не только пляжный отдых в Средиземноморье, но и горнолыжные курорты, и зимний отдых на о. Тенерифе!

## СТРАНА

- 1) Испания  
 2) Болгария  
 3) Мексика  
 4) Норвегия

Запишите в ответ цифры, расположив их в порядке, соответствующем буквам:

А	Б

## 26. Задание 24 № 206

Расположите регионы России в той последовательности, в которой их жители встречают Новый год. Запишите в ответ получившуюся последовательность букв.

- А) Тверская область  
 Б) Забайкальский край  
 В) Омская область

## 27. Задание 30 № 207

Определите страну по её краткому описанию.

Эта азиатская страна по размерам территории относится к крупным странам. На севере, в горах, распространены хвойные и смешанные леса, на юге преобладают полупустынные и пустынные ландшафты. Характерен резко континентальный климат умеренного пояса. По суше граничит лишь с двумя государствами.

## 28. Задание 15 № 208

Какие опасные природные явления влекут за собой тропические циклоны? Укажите два любых опасных природных явления, связанных с тропическими циклонами.

По данным, полученным с искусственного спутника Земли, 14 сентября в открытом океане в районе с координатами 20° с.ш. 135° в.д. зародился тропический циклон. По предварительным расчетам синоптиков, циклон будет смещаться на север-северо-запад и к вечеру 17 сентября подойдет к южной оконечности Корейского полуострова. Синоптики обрабатывают несколько версий его дальнейшего перемещения. В случае необходимости предупреждение об опасности данного циклона для российской территории будет распространено 17 сентября.

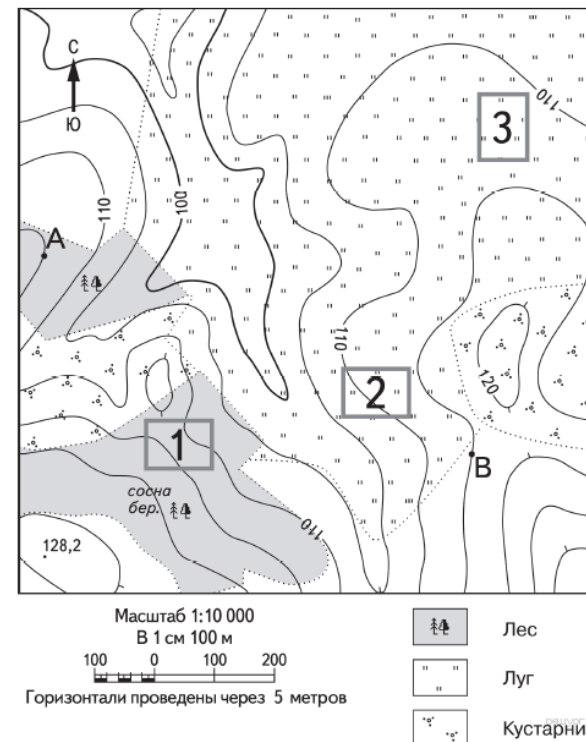
## Критерии проверки:

Критерии оценивания выполнения задания	Баллы
Ответ включает названные элементы	1

Ответ не включает названные элементы	0
Максимальный балл	1

## 29. Задание 20 № 209

Школьники выбирают место для катания на санках. Оцените, какой из участков, обозначенных на карте цифрами 1, 2 и 3, больше всего подходит для этого. Для обоснования своего ответа приведите два довода.



## Критерии проверки:

Критерии оценивания выполнения задания	Баллы
Ответ включает оба названных выше элемента	2
Ответ включает один (любой) из названных выше элементов	1
Все ответы, которые не соответствуют вышеуказанным критериям выставления оценок в 1 и 2 балла	0
Максимальный балл	2

## 30. Задание 23 № 210

Укажите особенность промышленности Челябинской области, которая способствует бесперебойному снабжению указанного в тексте предприятия металлом.

**Критерии проверки:**

Критерии оценивания выполнения задания	Баллы
Ответ включает названные элементы	1
Ответ не включает названные элементы	0
<i>Максимальный балл</i>	1

**Ключ**

№ п/п	№ задания	Ответ
1	181	4
2	182	2
3	183	1
4	184	3
5	185	3
6	186	1
7	187	3
8	188	3
9	189	2
10	190	2
11	191	4
12	192	2
13	193	2
14	194	4
15	195	4
16	196	2
17	197	1
18	198	1
19	199	-4287
20	200	АВБ
		Колката
21	201	Калькутта
22	202	470 480 490
		на юге в южном  южном юг  ю
23	203	
24	204	БВА
25	205	41
26	206	БВА
27	207	Монголия