

Вариант № 9**ГИА по географии 31.05.2013. Основная волна. Центр. Вариант 1306.****1. Задание 1 № 227**

Россия занимает первое место в мире по запасам

- 1) нефти
- 2) природного газа
- 3) медных руд
- 4) алюминиевых руд

2. Задание 2 № 228

По акватории какого из перечисленных морей проходит морская Государственная граница Российской Федерации?

- 1) Японское
- 2) Средиземное
- 3) Южно-Китайское
- 4) Северное

3. Задание 3 № 229

В каком из перечисленных регионов России почвы наиболее плодородные?

- 1) Вологодская область
- 2) Калининградская область
- 3) Новгородская область
- 4) Краснодарский край

4. Задание 4 № 230

С сейсмичностью и подводным вулканизмом тесно связана опасность возникновения огромных морских волн — цунами, под угрозой которых находятся территории прибрежных городов и населённых пунктов. На какой из перечисленных территорий России необходима работа специальных служб по предупреждению населения о цунами?

- 1) Чукотский полуостров
- 2) Кольский полуостров
- 3) Курильские острова
- 4) архипелаг Новая Земля

5. Задание 5 № 231

Какой из перечисленных регионов лидирует в России по добыче нефти, природного газа и каменного угля?

- 1) Поволжье
- 2) Европейский Север
- 3) Западная Сибирь
- 4) Дальний Восток

6. Задание 6 № 232

Группа туристов из Австралии хочет своими глазами увидеть необычную для них природу средней полосы Европейской части России. Какой из перечисленных заповедников для этого им необходимо посетить?

- 1) Окский
- 2) Усть-Ленский
- 3) Кандалакшский
- 4) Курильский

7. Задание 8 № 233

В каком году в Алтайском крае наблюдалось наибольшее превышение смертности над рождаемостью?

Изменение численности населения Алтайского края в 2007–2010 гг.

Показатель	2007 г.	2008 г.	2009 г.	2010 г.
Общий прирост населения за год, человек	–14 830	–11 702	–6062	–9803
Естественный прирост населения за год, человек	–9039	–6756	–4868	–5516

- 1) 2007 г.
- 2) 2008 г.
- 3) 2009 г.
- 4) 2010 г.

8. Задание 7 № 234

В каком из перечисленных регионов России средняя плотность населения наибольшая?

- 1) Ханты-Мансийский АО — Югра
- 2) Республика Саха (Якутия)
- 3) Чукотский АО
- 4) Омская область

9. Задание 10 № 235

Какой из перечисленных населённых пунктов, показанных на карте, находится в зоне действия циклона?



- 1) Воронеж
- 2) Барнаул
- 3) Тура
- 4) Красноярск

10. Задание 11 № 236

Карта погоды составлена на 5 декабря. В каком из показанных на карте городов на следующий день наиболее вероятно существенное потепление?



- 1) Москва
- 2) Нижний Новгород
- 3) Пермь
- 4) Ханты-Мансийск

11. Задание 6 № 237

Какой из перечисленных природных ресурсов является исчерпаемым возобновимым?

- 1) энергия ветра
- 2) плодородие почв
- 3) каменный уголь
- 4) энергия солнца

12. Задание 13 № 238

В каком из высказываний содержится информация о миграциях населения?

- 1) По итогам Всероссийской переписи населения 2010 г. численность городского населения составляла 105,3 млн человек (74%), около трети горожан проживало в 12 городах-миллионерах.
- 2) В 2009 г. средняя плотность населения Северо-Кавказского федерального округа была одна из самых высоких в стране: 54 человека на 1 км².
- 3) Число родившихся в России в январе — октябре 2012 г. выросло до 1586,9 тыс. человек против 1482,8 тыс. человек в январе — октябре 2011 г. При этом число умерших в январе — октябре 2012 г. сократилось до 1586,1 тыс. человек с 1610,2 тыс. человек годом ранее.
- 4) В 2010 г. число прибывших в Россию из других стран на постоянное место жительства было на 158 тыс. человек больше числа выбывших за пределы России.

13. Задание 16 № 239

В какой из перечисленных стран имеются действующие вулканы?

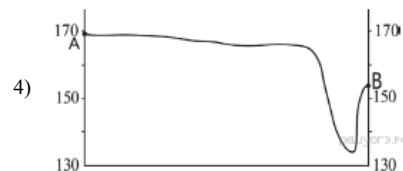
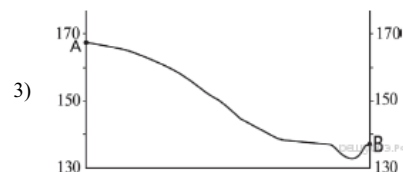

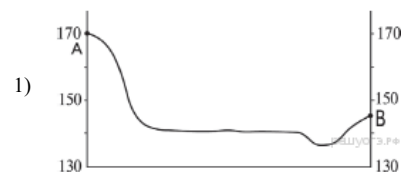
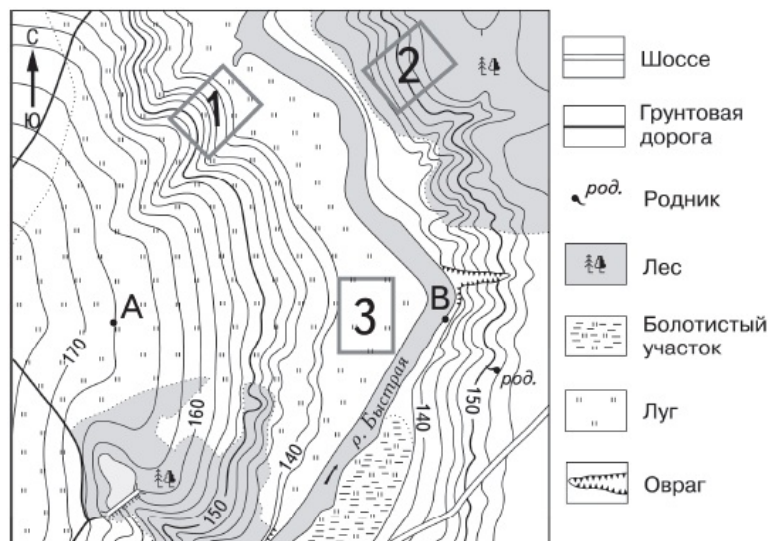
- | | |
|--------------|--------------|
| 1) Бангладеш | 2) Чили |
| 3) Германия | 4) Австралия |

В ответе укажите номера верных вариантов без пробелов и запятых.

Никарагуа — государство в Центральной Америке. На его территории находится два больших озера: Манагуа, длиной 51 км и шириной от 16 до 25 км, и Никарагуа, длиной 105 км и шириной около 70 км. Над поверхностью озера Никарагуа поднимаются три вулканических конуса, самый высокий из которых — Консепсьон. На юго-западном берегу озера Манагуа вздымается величественный вулкан Момотомбо. Цепь из 20 вулканов продолжается далее на северо-запад, к Тихому океану.

14. Задание 21 № 240

На рисунках представлены варианты профиля рельефа местности, построенные на основе карты по линии А—В разными учащимися. Какой из профилей построен верно?



15. Задание 22 № 241

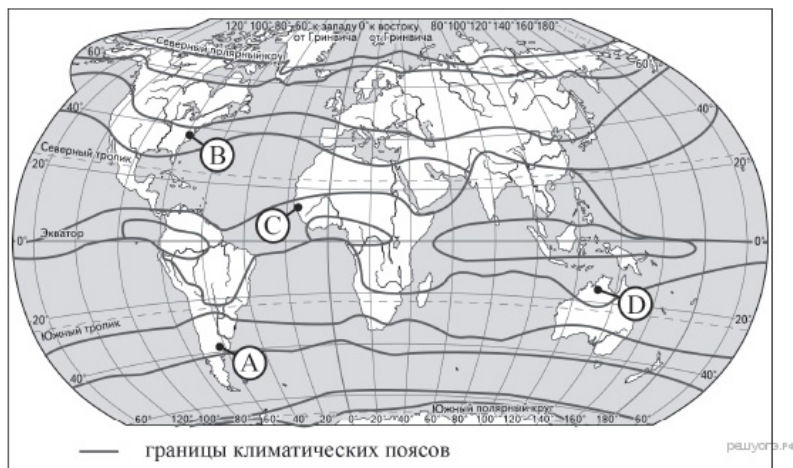
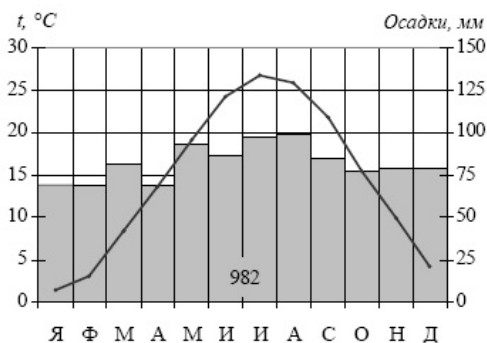
Карты какого географического района России необходимо выбрать, чтобы определить местоположение Хабаровского края?

- 1) Западной Сибири
- 2) Северо-Запада
- 3) Восточной Сибири
- 4) Дальнего Востока

В декабре 2012 г. в Хабаровском крае открылся завод по производству строганых пиломатериалов СП «Аркаим». Мощность предприятия составляет около 180 тыс. м³ продукции в год. Завод по производству строганых пиломатериалов — один из шести, которые будут сооружены в регионе в ближайшее время. В числе других объектов — заводы по производству топливных гранул, клеёного бруса, мебельного щита, смол (клея). Общая сумма инвестиций в строительство деревообрабатывающего комплекса составит около 8 млрд рублей.

16. Задание 27 № 242

Проанализируйте климатограмму и определите, какой буквой на карте обозначен пункт, характеристики климата которого отражены в климатограмме.



- 1) A
- 2) B
- 3) C
- 4) D

17. Задание 28 № 243

Учащиеся проанализировали собранные данные в целях выявления ависимости между особенностями климата и географическим положением пункта. У всех учащихся выводы получились разные. Кто из учащихся сделал верный вывод на основе представленных данных?

- 1) Герман: «При движении с запада на восток лето становится теплее».

- 2) Валерия: «При движении с запада на восток зимы становятся холоднее».
- 3) Анна: «Чем ниже температура воздуха летом, тем меньше выпадает атмосферных осадков».
- 4) Константин: «Количество атмосферных осадков зависит от расстояния до Тихого океана: чем ближе к нему, тем количество атмосферных осадков меньше».

Школьники нашли в Интернете климатические данные для пунктов, расположенных в Азии на одной параллели, но на разных меридианах. Данные получены на местных метеостанциях в результате многолетних наблюдений. Собранные школьниками данные представлены в следующей таблице.

Пункт наблюдения	Географические координаты пункта наблюдения	Средняя температура воздуха, °С		Атмосферные осадки, норма, мм		Среднегодовое количество атмосферных осадков, мм
		январь	июль	январь	июль	
Семипалатинск	50° с.ш. 80° в.д.	-15,8	+21,7	15	34	264
Онгудай	50° с.ш. 86° в.д.	-18,0	+16,9	7	76	379
Кяхта	50° с.ш. 106° в.д.	-21,6	+19,0	3	85	329
Тайхай	50° с.ш. 121° в.д.	-27,6	+16,4	4	129	481

18. Задание 29 № 244

В каком из перечисленных населённых пунктов 22 июня Солнце раньше всего по московскому времени поднимется над горизонтом?

- 1) Семипалатинск
- 2) Онгудай
- 3) Кяхта
- 4) Тайхай

19. Задание 9 № 245

Определите миграционный прирост населения Алтайского края в 2009 г. Ответ запишите в виде числа.

Изменение численности населения Алтайского края в 2007–2010 гг.

Показатель	2007 г.	2008 г.	2009 г.	2010 г.
Общий прирост населения за год, человек	-14 830	-11 702	-6062	-9803
Естественный прирост населения за год, человек	-9039	-6756	-4868	-5516

20. Задание 17 № 246

Расположите перечисленные ниже города в порядке увеличения в них численности населения. Запишите в ответ получившуюся последовательность букв.

- А) Южно-Сахалинск
- Б) Ульяновск

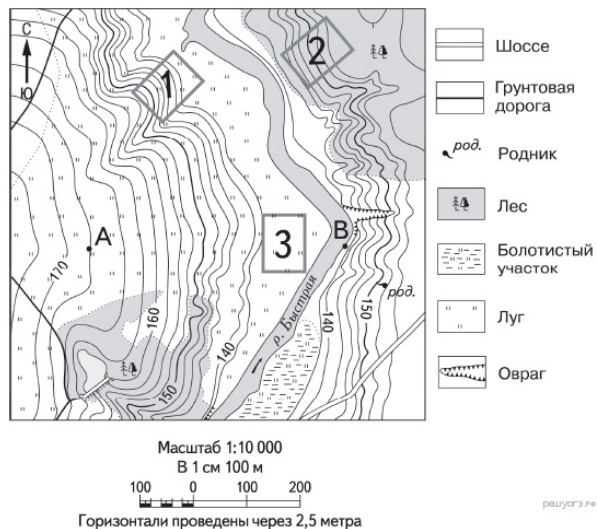
В) Омск

21. Задание 14 № 247

Определите, какой город имеет географические координаты 59° с.ш. 18° в.д.

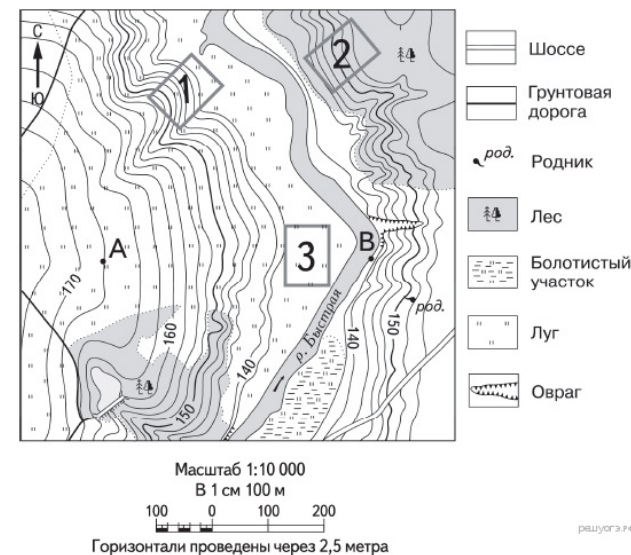
22. Задание 18 № 248

Определите по карте расстояние на местности по прямой от точки В до родника. Измерение проводите между точкой и центром соответствующего условного знака. Полученный результат округлите до десятков метров. Ответ запишите в виде числа.



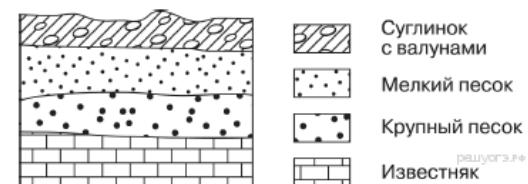
23. Задание 19 № 249

Определите по карте, в каком направлении от точки В находится родник.



24. Задание 26 № 250

Во время экскурсии учащиеся сделали схематическую зарисовку залегания горных пород на обрыве в карьере.



Расположите показанные на рисунке слои горных пород в порядке увеличения их возраста (от самого молодого до самого древнего). Запишите в ответ получившуюся последовательность букв.

- А) крупный песок
- Б) суглинок с валунами
- В) мелкий песок

25. Задание 25 № 251

Туристические фирмы разных регионов России разработали слоганы (рекламные лозунги) для привлечения туристов в свои регионы. Установите соответствие между слоганом и регионом.

СЛОГАН

РЕГИОН

- А) Здесь можно увидеть дельту крупнейшей реки Русской равнины!
- Б) Мы предлагаем сплавы по реке Катунь, которая берёт

- 1) Астраханская область
- 2) Краснодарский край
- 3) Республика Алтай

начало в ледниках высочайшей горы Сибири!

4) Самарская область

Запишите в ответ цифры, расположив их в порядке, соответствующем буквам:

А	Б

26. Задание 24 № 252

Расположите регионы России в той последовательности, в которой их жители встречают Новый год. Запишите в ответ получившуюся последовательность букв.

- А) Тюменская область
Б) Республика Татарстан
В) Амурская область

27. Задание 30 № 253

Определите регион России по его краткому описанию.

Это одна из крупных по размерам территории республик в составе РФ. Климат умеренно континентальный. Значительное преобладание количества выпадающих атмосферных осадков над испарением и преобладание низменного рельефа определили повышенную заболоченность. Около 80% территории занимают леса. Разведаны запасы нефти, природного газа, угля, бокситов и др. Ведущие отрасли промышленности: топливная, лесозаготовительная, деревообрабатывающая и целлюлозно-бумажная.

Ответ: Республика _____.

28. Задание 15 № 254

Никарагуа — государство в Центральной Америке. На его территории находится два больших озера: Манагуа, длиной 51 км и шириной от 16 до 25 км, и Никарагуа, длиной 105 км и шириной около 70 км. Над поверхностью озера Никарагуа поднимаются три вулканических конуса, самый высокий из которых — Консепсьон. На юго-западном берегу озера Манагуа вздымается величественный вулкан Момотомбо. Цепь из 20 вулканов продолжается далее на северо-запад, к Тихому океану.

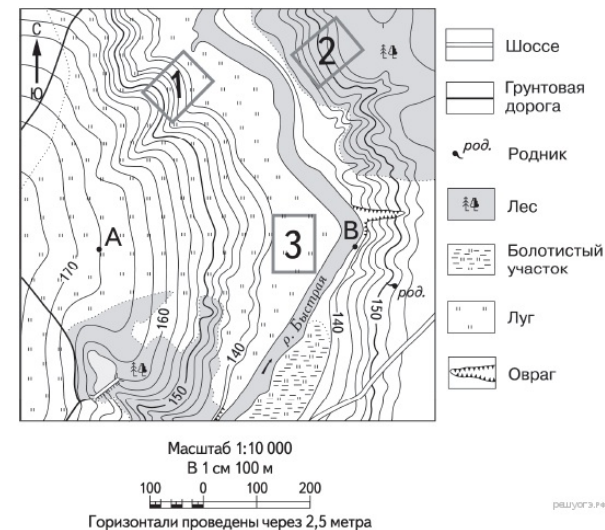
Чем объясняется наличие большого количества вулканов на территории Никарагуа?

Критерии проверки:

Критерии оценивания выполнения задания	Баллы
Ответ включает оба названных выше элемента	2
Ответ включает один (любой) из названных выше элементов	1
Все ответы, которые не соответствуют вышеуказанным критериям выставления оценок в 1 и 2 балла	0
Максимальный балл	2

29. Задание 20 № 255

Школьники выбирают место для катания на санках. Оцените, какой из участков, обозначенных на карте цифрами 1, 2 и 3, больше всего подходит для этого. Для обоснования своего ответа приведите два довода.



Критерии проверки:

Критерии оценивания выполнения задания	Баллы
Ответ включает оба названных выше элемента	2
Ответ включает один (любой) из названных выше элементов	1
Все ответы, которые не соответствуют вышеуказанным критериям выставления оценок в 1 и 2 балла	0
Максимальный балл	2

30. Задание 23 № 256

Какая особенность природно-ресурсной базы Хабаровского края способствовала принятию решения о размещении на его территории указанного в тексте предприятия?

Критерии проверки:

Критерии оценивания выполнения задания	Баллы
Хабаровский край богат лесными ресурсами. Ответ включает названные элементы	1
Ответ не включает названные элементы	0
Максимальный балл	1

Ключ

№ п/п	№ задания	Ответ
1	227	2
2	228	1
3	229	4
4	230	3
5	231	3
6	232	1
7	233	1
8	234	4
9	235	4
10	236	4
11	237	2
12	238	4
13	239	2
14	240	3
15	241	4
16	242	2
17	243	2
18	244	4
19	245	-1194
20	246	АБВ
21	247	Стокгольм
22	248	90 100 110
		ЮВ Юго- Восток в юго- восточном
23	249	
24	250	БВА
25	251	13
26	252	ВАБ
27	253	Коми